




卢姨团队

教资笔试

综合素质500题

以题代练，查漏补缺，夯实基础



综合素质 500 题

单选题 - 题集



卢姨团队

@韩韩考教师

目录

一、 职业理念	3
二、 法律法规	8
三、 职业道德	16
四、 文化素养	21
4.1 历史	21
4.2 文学	31
4.3 传统文化	46
4.4 艺术	49
4.5 科技	52
4.6 科学	58
4.7 常识	67
五、 信息处理	74
六、 逻辑思维	78

一、 职业理念



备考建议

试卷位置：试卷的 1-4 题，4 个单选，共 8 分。

备考建议：近三年来考试难度加大，需要认真审题，掌握三观。

真题链接

1. 新入职的杨老师为了上好课，积极研究学科教学知识，主动向教研员请教，还坚持写教学日志。对杨老师的做法，下列评价不恰当的是（ ）。(24 上小，4 题)
A.注重专家引领
B.注重自我研修
C.注重自我反思
D.注重校本研修
2. 在家长的强烈要求下，某校将高三年级所有自习课都安排给语文、数学、英语学科上辅导课，高考时这几科取得了好成绩。该校的做法（ ）。(24 上中，2 题)
A.违背了均衡发展的要求
B.违背了学生全面发展的要求
C.遵循了学生发展的规律
D.符合社会对人才质量的要求
3. 某校长在期末总结会上说：“XX 学生成绩远超其他学校，成功的法宝就是把最好的资源

集中在语文、数学、英语单科上，并缩减综合实践活动课时，将缩减的课时用在重点学科的学习上。”这种做法（ ）。(24 上小，3 题)

- A.有利于教育质量提升
- B.不利于学生全面发展
- C.有利于重点学科学习
- D.不利于教师自我提升

4. 贝贝比较内向，不太愿意与人交流，孙老师对小朋友们说：“早上来要向老师问好哦！”第二天早上，每当小朋友进到教室，孙老师就鞠躬问好，小朋友礼貌地向老师问好，贝贝也贴在孙老师的耳边小声说“老师早上好！”孙老师的做法体现教育角色是（ ）。(24 上幼，3 题)

- A.引导者
- B.学习者
- C.研究者
- D.合作者

5. 某校许多优秀校友在回忆录中都谈到“自己的成长凝聚着各学段许许多多教师的辛勤劳动”。这充分表明教师的劳动具有（ ）。(2023 下中，4 题)

- A.主体性
- B.特殊性
- C.长期性
- D.创造性

A+

考点练习

6. 下列关于素质教育的说法正确的是（ ）。

- A.素质教育就是特长教育
- B.素质教育以促进知识深刻内化为目标
- C.素质教育关注的是人的发展质量
- D.素质教育的最终目的是取消考试

7. 《将青春活成传奇》一书中，有这样一句话“时光不语，静待花开”，从学生观的角度来看，这句话没有体现（ ）。

- A.学生是独特的人
- B.学生具有发展的巨大潜能
- C.学生是发展的人
- D.学生的身心发展具有规律性

8. 孙老师经常说“授人以鱼不如授人以渔”，这体现孙老师重视（ ）。

- A.传授知识
- B.发展能力
- C.培养个性
- D.形成品德

9. 王老师常说：“学生如同泥坯，他能否成型，依赖于教师的雕塑。”这种说法忽视了学生的（ ）。

- A.向师性
- B.发展性

C.可塑性

D.能动性

10. 李老师是某中学的骨干教师，在一次培训大会上，她强调素质教育是“为人生做准备”的教育，这说明李老师看到了素质教育的（ ）。

A.发展性

B.全面性

C.全体性

D.基础性

11. 赵老师经常说“多一把衡量的尺子，就会多出一批好学生”，这体现赵老师具有怎样的评价观？（ ）

A.评价是促进学生发展的“泵”

B.评价应该关注过程

C.学生是评价的主体

D.评价标准应该多元化

12. 新学期开学不久，王老师发现小明身上有许多坏毛病。王老师心想，像小明这样的学生，缺少的不是批评而是鼓励。这说明王老师具有怎样的学生观？（ ）

A.学生是完整的人

B.学生是发展的人

C.学生是独特的人

D.学生是独立意义的主体

13. 随着现代科学技术的日新月异，“慕课”迅速席卷全球。邱老师找到做“慕课”比较好的李老师，对李老师进行访谈，并且跟着李老师每天上课，进行分析研究。这体现了邱老师是（ ）。

A.教师是课程的建设者和开发者

B.教师是教育教学的研究者和反思者

C.教师是社区型的开放教师

D.教师是学生学习的引导者和学生发展的促进者

14. 在教学过程中，有的老师面对成绩不好的学生会认为“朽木不可雕也”，这违背了（ ）学生观。

A.学生是发展的人

B.学生是独特的人

C.学生是具有独立意义的主体

D.学生是学习的主体

15. 新课程改革背景下的教师观强调教师行为的转变，下列哪一项关于教师行为的转变表述是正确的？（ ）

A.在对待自我上，新课程强调反思

B.在对待师生关系上，新课程强调权威、批评

C.在对待教学关系上，新课程强调教导、答疑

D.在对待与其他教育者的关系上，新课程强调独立自主精神

16. 盛老师是初中语文老师，关于语文教学方法，盛老师有以下几种看法，请问哪一项是不可取的？（ ）

A.教学方法具有相对性，每种方法就本质来说，都是相对辩证的：既有优点又有缺点

B.教学方法具有单一性，因为优秀的语文老师可以做到以不变应万变

C.教学方法是教师教的方法和学生学的方法的综合体。教师教的方法，在于示范、启发、训练和辅导；学生学的方法，在于观察、仿效、运用和创造

D.教学方法具有针对性，教师在进行教学时，要针对不同对象和特点，不同的目的、要求，选择不同的教学方法

17. 杨老师上课时，恰好校长过来巡视，并在其班上停留了一会。校长走后，杨老师无精打采，一直在想“校长为什么在我班停留？”“是不是我讲的不好”等问题，这说明杨老师处于专业成长的（ ）。

A.关注情境阶段

B.关注生存阶段

C.关注学生阶段

D.关注自我阶段

18. 韩老师在教学日志中写道：“我现在虽然懂很多知识，也掌握了很多教学技能，但是怎样才能提高学生的成绩呢？我怎么才能行呢？我得好好想想。”韩老师所处的阶段是（ ）。

A. “虚拟关注”阶段

B. “生存关注”阶段

C. “任务关注”阶段

D. “自我更新关注”阶段

19. 贯彻“以人为本”的教育理念首先应该做到（ ）。

A.充分地传授知识

B.尊重学生人格，关注个体差异

C.培养学生正确的学习态度

D.让学生自主地选择课程

20. （ ）将成为未来每个教师的基本职业生存方式。

A.终身学习

B.学校学习

C.交流学习

D.探究学习

21. 在教育活动中，教师负责组织、引导学生沿着正确的方向，采用科学的方法，获得良好的发展。这句话的意思是说（ ）。

A.学生在教育活动中是被动的客体

B.教师在教育活动中是被动的客体

C.要充分发挥教师在教育活动中的主导作用

D.教师在教育活动中不能起到主导作用

22. 大助理在期末考试时作弊被教导主任卢老师发现。卢主任严肃地对大助理说：“平时不努力，考试时作弊，真丢脸！你等着受处分吧！”大助理脸色煞白，哀求道：“我下次再也不敢了，请不要处分我。”卢主任怒道：“没门！”卢老师的做法（ ）。

A.正确。对于学生的不良行为进行了有效的制止

B.正确。体现了作为教育工作者的权威

C.错误，违背了一切为了孩子发展的理念

D.错误，不应当在公开场合处理大助理同学

23. 卢老师在上课过程中让学生自己自由发挥讨论，课堂气氛好，同学们上他的课都很开心。但是在旁听课的老师说卢老师上课缺乏知识传授，没有效果。卢老师的课堂中不存在的问题是（ ）。

A.忽视了学生的主体性

B.备课不充分

C.没有注意到学生的个性差异

D.没有发挥教师的引导作用

24. 没有一成不变的学生，也没有处处适用的教学经验，教师不能年复一年地套用固有的教育教学模式，这要求教师要（ ）。

A.尊重和赞赏每一位学生

B.以研究者的眼光对待教育教学

C.改变“教教材”为“用教材教”

D.引导学生主动思考

25. 某些学校认为“明亮的教室要干净，神圣的教室要安静。”不少教师强调课堂要鸦雀无声，追求课堂秩序井然。学校的做法（ ）。

A.正确，体现了教书育人的理念

B.不正确，没有以学习者为中心

C.正确，体现了学校对教学环境的重视

D.不正确，没有培养学生的创新精神

二、 法律法规



备考建议

试卷位置：试卷的 5-12 题，8 个单选，共 16 分。

备考建议：3 道左右的常识题可以拿分，要复习高频考点和重要法条。

真题链接

26. 某次实验课，王老师详细地讲解了有关操作和注意事项，还为学生规范地演示实验流程。学生林某上课不认真听讲，在进行实验时违反操作规范，造成 3 名同学受伤。在这起事故中，应承担主要法律责任的是（ ）。(24 上中，10 题)

A. 林某

B. 王老师

C. 林某与学校

D. 林某与王老师

27. 教师何某认为学校侵犯了自己的合法权益，向当地教育行政部门提出了申诉。依据《中华人民共和国教师法》，当地教育行政部门应当对此作出处理的期限是（ ）。(24 上中，12 题)

A.接到申诉的 15 日内

B.接到申诉的 30 日内

C.接到申诉的 45 日内

D.接到申诉的 60 日内

28. 教师王某通过了硕士研究生入学考试,学校以王某服务期未满、学校教师不足为由不予批准王某在职学习。王某欲以剥夺其参加进修权利为由提出申诉,受理申诉的机构应当是()。(24 上小,7 题)

A.同级人民政府

B.上一级人民政府有关部门

C.教育行政部门

D.检察机关

29. 学生玩手机,沉迷网络,老师多次提醒,屡教不改。对此,学校可采取的教育管理措施是()。(24 上小,10 题)

A.要求参加校内服务活动

B.予以训诫

C.责令接受心理辅导、行为矫治

D.责令具结悔过

30. 某民办幼儿园聘用陈某担任教师,经查询得知其因故意犯罪被判处有期徒刑一年执行。下列说法正确的是()。(24 上幼,7 题)

A.陈某故意犯罪获刑,不能从事教师职业

B.陈某不能当带班老师,但可以做保育员

C.陈某服刑期已满,可以从事教师职业

D.陈某被判缓刑,民办幼儿园可以聘用



31. 全国人民代表大会会议每年举行一次,由()召集。

A.委员长

B.全国人大主席团

C.全国人民代表大会常务委员会

D.委员长会议

32. 人民行使国家权力的机关是全国人民代表大会和()。

A.国务院

B.地方各级人民政府

C.地方各级人民代表大会

D.各级政治协商制度

33. 我国的根本制度是()。

A.人民代表大会制度

B.社会主义制度

C.民主集中制

D.民族区域自治制度

34. 陈某和王某都是年满十周岁的小学生，两人上课时打斗，老师未能及时制止。陈某不慎击中王某眼睛导致王某眼睛失明。在此事件中应当承担责任的是（ ）。

- A. 陈某和其监护人
- B. 王某和其监护人
- C. 陈某和学校
- D. 王某和学校

35. 林某是小学四年级学生，在一次值日中，教师安排林某在擦教室立式空调的顶部灰尘时，凳子倾倒，林某摔倒在地受重伤，住院花了不少钱。关于该事故，说法正确的是（ ）。

- A. 学校无过错，不承担法律责任
- B. 学校有过错，承担相应法律责任
- C. 学校无过错，但应负赔偿责任
- D. 学校有过错，但应由教师承担赔偿责任

36. 宪法的修改，由全国人民代表大会常务委员会或者五分之一以上的全国人民代表大会代表提议，并由全国人民代表大会以全体代表的（ ）以上的多数通过。

- A. 四分之三
- B. 三分之二
- C. 五分之四
- D. 二分之一

37. 小雷今年 14 岁，就读于某寄宿制学校。某晚就寝时小雷头朝无护栏的方向（床具等符合国家标准），宿舍老师巡逻时多次口头提醒小雷头应朝向有护栏的方向睡觉，但小雷不听劝阻。次日凌晨，小雷从上铺无护栏处摔下，造成左眼失明。此案中校方应（ ）。

- A. 承担全部责任
- B. 无责任
- C. 承担次要责任
- D. 承担主要责任

38. 《教育法》中规定：教育活动必须符合国家和社会公共利益。国家实行教育与宗教相分离。任何组织和个人不得利用宗教进行妨碍（ ）的活动。

- A. 国家教育活动
- B. 教育法律
- C. 教育法规
- D. 国家教育制度

39. 依照《中华人民共和国教师法》，下列不属于教师享有的权利的是（ ）。

- A. 进行教育教学活动，开展教育教学改革和实验
- B. 指导学生的学习和发展，评定学生的品行和学业成绩
- C. 参加进修或者其他方式的培训
- D. 不断提高政治思想觉悟和教育教学业务水平

40. 李某天生有残疾，成绩不好，数学老师经常召集全班同学笑他是“瘸腿笨蛋”造成李某

最后跳楼自杀，在这种情形下，应该（ ）。

- A.依法追究该老师的刑事责任，学校对该数学老师给予解聘
- B.对该数学老师给予行政处罚并依法追究该老师的刑事责任
- C.对该数学老师给予民事处分，要求赔礼道歉
- D.对该数学老师给予行政处分同时解聘

41. 对未完成义务教育的未成年人进行义务教育，所需经费由（ ）。

- A.家庭予以保障
- B.学校予以保障
- C.人民政府予以保障
- D.自己负责

42. 《未成年人保护法》规定，学校、幼儿园周边不得设置营业性娱乐场所、酒吧、互联网上网服务营业场所等不适宜未成年人活动的场所。这属于（ ）保护。

- A.家庭保护
- B.社会保护
- C.学校保护
- D.司法保护

43. 对违法犯罪的未成年人，实行教育、感化、挽救的方针，坚持（ ）的原则。

- A.惩罚为主，教育为辅
- B.教育为主、惩罚为辅
- C.教育与保护相结合
- D.教育与惩罚并用

44. 小敏是初二的学生，在一次学校组织的考试中提前交卷并离开考场，擅自离校，与好友相约到距离学校一公里外的池塘游泳，因体力不支溺水身亡。根据《学生伤害事故处理办法》，认定学校（ ）。

- A.承担全部责任
- B.承担大部分责任
- C.承担过错责任
- D.不承担法律责任

45. 小明已经十五岁了，已经长到了一米八的身高。企业老总黄某招聘其为正式员工。该企业违背了（ ）。

- A.《教育法》
- B.《义务教育法》
- C.《职业教育法》
- D.《未成年人保护法》

46. 关于《中华人民共和国教育法》中规定，我国对于教育的总体发展状况描述正确的是（ ）。

- A.超前发展
- B.滞后发展
- C.优先发展
- D.均衡发展

47. 《中华人民共和国教师法》规定，中小学教师和职业学校教师享有（ ）。

- A.公务员同等待遇
- B.教龄津贴和其他津贴

C.职务津贴和教龄津贴

D.职业津贴和绩效津贴

48. 根据《中华人民共和国未成年人保护法》规定，对于在学校接受教育的有严重不良行为的未成年人，学校和父母应加以管教；无力管教或管教无效的可以依照规定（ ）。

A.劝其退学

B.劝其转学

C.将其送入专门学校接受专门教育

D.取消学籍，但保留入学资格 1 年

49. 对未成年人的预防犯罪教育负有直接责任的是（ ）。

A.当地人民政府

B.父母或其监护人

C.学校

D.教育行政部门

50. 陈红在学校组织的义务劳动中，不慎造成小腿骨折，陈红住院治疗期间的医药费应该由谁承担？（ ）

A.陈红本人

B.陈红的监护人

C.陈红的学校

D.陈红的学校和监护人

51. 下列说法，不符合《义务教育法》规定的是（ ）。

A.县级人民政府根据需要设置寄宿制学校

B.教师应当取得国家规定的教师资格

C.学校应当把德育放在首位

D.省级人民政府教育行政部门对本行政区域内的军人子女接受义务教育予以保障

52. 学生在以下情形中受到伤害，需要学校承担责任的是（ ）。

A.未告知学校，擅自离校后受到伤害的

B.未按要求离校，自行滞留学校受到伤害的

C.因学校场地、器械受到伤害的

D.自行上下学途中因意外受到伤害的

53. 根据《未成年人保护法》，我国对未成年人的保护不包括（ ）。

A.学校保护

B.司法保护

C.制度保护

D.网络保护

54. 某初中开展“法制教育日”活动，要求父母配合。有些父母说：“孩子送到学校，学校应该做好预防犯罪教育工作，我们工作那么忙，没有时间进行法制学习。”这些父母的做法（ ）。

A.正确，学校不能推卸自己的教育责任

B.正确，父母没有承担预防犯罪教育的责任

C.不正确，父母对未成年人的预防犯罪教育负有直接责任

D.不正确，学校对未成年人的预防犯罪教育负全责

55. 根据国家有关规定经批准招收适龄儿童、少年进行文艺、体育等专业训练的社会组织，应当保证所招收的适龄儿童、少年接受义务教育；自行实施义务教育的，应当经（ ）人民政府教育行政部门批准。

A.县级

B.市级

C.省级

D.中央

56. 教师（ ）是受聘任教、晋升工资、实施奖惩的依据。

A.学历水平

B.业务水平

C.工作成绩

D.考核结果

57. 根据《中华人民共和国未成年人保护法》，应当对未成年人免费开放的场馆是（ ）。

A.展览馆

B.纪念馆

C.图书馆

D.影剧院

58. 某小学一节课结束后，任课老师抱着学生刚交的作业本离开教室，一名来交作业的学生急急忙忙追赶老师，不慎摔倒在地，将门牙摔掉一颗，在此事中，承担主要责任的是（ ）。

A.学校

B.任课教师

C.学校和教师

D.学生监护人

59. 《中华人民共和国义务教育法》规定，为了缩小学校之间办学条件的差距，县级以上人民政府及其教育行政部门应当促进学校（ ）。

A.稳定发展

B.持续发展

C.差异发展

D.均衡发展

60. 根据《教育法》的规定，学校的基本教育教学语言文字是（ ）。

A.地方通用语言文字

B.汉语言文字

C.当地民族语言文字

D.国家通用语言文字

61. 甲曾因故意伤害罪被判处有期徒刑一年，刑满释放后，甲决心重新做人，实现自己儿时当一名教师的梦想，于是开始准备相关考试并申请教师资格。对此，下列说法正确的是（ ）。

A.因甲曾故意犯罪被判处有期徒刑，其不能取得教师资格

B.因甲水平不高，其不能取得教师资格

C.因甲已经刑满释放，其可以取得教师资格

D.因甲想当一名教师，其可以取得教师资格

62. 我国《教育法》规定：“国家鼓励学校及其他教育机构、社会组织采取措施，为公民接受（ ）创造条件。”

A.教育

B.平等教育

C.普及教育

D.终身教育

63. 中学李老师认为学校扣自己的工资而提出申诉，依据《教师法》，受理其申诉的机关是（ ）。

A.同级教育行政部门

B.同级人民政府

C.上级人民政府

D.同级纪律检查部门

64. 某初中划分为重点班和非重点班，这违背了义务教育发展的（ ）。

A.优先发展

B.协调发展

C.均衡发展

D.重点发展

65. 随意对学生进行搜索、关禁闭的行为主要侵犯了学生的（ ）。

A.人格尊严权

B.隐私权

C.生命健康权

D.人身自由权

66. 侵占学校及其他教育机构校舍场地及其他财产的，依法承担（ ）。

A.行政责任

B.刑事责任

C.民事责任

D.AB 两种责任

67. （ ）应对流浪乞讨或者身份不明的未成年人承担临时监护责任。

A.县级以上教育行政部门

B.儿童福利机构

C.民政部门

D.国务院

68. 以下哪项不属于我国《未成年人保护法》中规定的未成年人享有的权利？（ ）。

A.受保护权

B.生存权

C.发展权

D.被选举权

69. 根据法律规定，我国义务教育学校的内部管理体制为（ ）。

A.教师负责制

B.校长负责制

C.校务委员会负责制

D.家长委员会负责制

70. 对视力残疾、听力语言残疾和智力残疾的适龄儿童、少年实施义务教育的学校教育机构

是（ ）。

- A.普通学校
- B.专门学校
- C.特殊教育学校
- D.残疾人学校

71. 设立学校及其他教育机构必须具备的基本条件不包括（ ）。

- A.有组织机构和章程
- B.有必备的办学资金和稳定的经费来源
- C.有符合规定标准的教学场所及设施设备
- D.有充足的教师

72. 下列属于《预防未成年人犯罪法》所称“严重不良行为”的是（ ）。

- A.旷课
- B.参与赌博
- C.抢夺公私财物
- D.参加实施不良行为的团伙

73. 国庆节期间，饭店张老板招用了 17 岁的小刚做临时工，待遇丰厚，虽然每天工作 13 个小时，但小刚很高兴，还介绍了其他同学来这里兼职。以下说法正确的是（ ）。

- A.小刚年龄符合国家法律规定的雇用标准
- B.张先生对小刚长时高薪的做法完全符合商业规则
- C.小刚假期外出打工违反了《中华人民共和国义务教育法》
- D.张先生的行为并未违反《中华人民共和国未成年人保护法》

74. 小王毕业后前往边远贫困地区，成为一名人民教师。依据《中华人民共和国教师法》，依法应对小王（ ）。

- A.提出表扬，且医疗要高于当地国家公务员的待遇
- B.给予高于国家公务员的工资
- C.予以补贴
- D.颁发荣誉证书，家属享有相应特殊待遇

75. 小学生徐某由于父母离异，伤心不已，放学后跳湖自杀。以下说法正确的是（ ）。

- A.学校不应承担法律责任
- B.学校没有及时制止，应承担法律责任
- C.小学生徐某擅自离校，学校要承担责任
- D.学生只要在校，校方就应承担法律责任

三、 职业道德



备考建议

试卷位置：试卷的 13-16 题，4 个单选，共 8 分。

备考建议：考试难度加大，2 个送分题，2 个难题，需要认真审题。

真题链接

76. 看见两名学生在教室里相互推搡，田老师当即把两人训斥了一顿，责令两人各写一份检讨书。田老师的做法（ ）。(24 上中，13 题)

- A.体现了对学生的严格要求
- B.体现了对学生的一视同仁
- C.违背了师生关系的平等性
- D.违背了师生关系的先天性

77. 小张是个淘气包，成绩不太好。有次老师和他谈心，发现他很会打篮球，便鼓励他去参加篮球社团。然后就让他担任 XX 队长，一个学期后他在各方面都有进步。该老师的做法没有体现（ ）。(24 上小，14 题)

- A.教育责任的自觉性
- B.教育效果的延时性
- C.教育影响的连续性
- D.教育方法的迁移性

78. 王老师正在讲龟兔赛跑的故事，朵朵忽然大声问：“老师，兔子怎么可以睡觉呢？这可是

比赛啊!”于是,王老师组织小朋友们就此展开讨论。下列选项与该案例所体现的教师职业道德要求相符的是()。(24上幼,14题)

- A. “视徒如己,反己以教。”
- B. “学然后知不足,教然后知困。”
- C. “善歌者,使人继其声;善教者,使人继其志。”
- D. “故君子之教,喻也,道而弗牵,强而弗抑,开而弗达。”

79. 林老师是某公办中学的语文教研组长,在一次期中考试中,他所带的班级没有取得理想成绩,于是他私下修改了本班成绩。此事被发现后,林老师受到警告处分。依据《中小学教师违反职业道德行为处理办法》正确的是()。(2023下中,13题)

- A. 应由学校提出对林老师处分的建议
- B. 对林老师的处分期限为12个月
- C. 对林老师的处分要报上级人事部门备案
- D. 林老师接受处分期间学校暂停其教师资格

80. 某小学在配备班主任时做出了下列规定,其中不正确的是()。(2023下小,16题)

- A. 担任一个班级的班主任时间一般为应为1学期以上
- B. 要求初次担任班主任工作的教师必须参加岗前培训
- C. 将班主任工作的考核结果作为其聘任和职务晋升的重要依据
- D. 在绩效工资分配中向班主任倾斜



考点练习

81. 新《教师职业道德规范》共六条,体现了教师职业特点对师德的本质要求和时代特征,()与“责任”是贯穿其中的核心和灵魂。

- A. “爱”
- B. 教书
- C. 学习
- D. 品质

82. 教师在履行教育义务的活动中,最主要、最基本的道德责任是()。

- A. 教书育人
- B. 依法执教
- C. 爱岗敬业
- D. 团结协作

83. “不以分数作为评价学生的唯一标准”属于《中小学教师职业道德规范(2008年修订)》中的()。

- A.爱国守法
B.关爱学生
C.教书育人
D.为人师表

84. 学生的成长凝聚着每一位教师的辛劳和奉献，教师的工作是“集体塑群像”的工作，所以教师们应该做到（ ）。

- A.依法执教
B.爱岗敬业
C.关爱学生
D.团结协作

85. 有人建议朱老师对违纪的学生进行罚款，朱老师拒绝了这种建议。这体现了朱老师（ ）。

- A.廉洁从教
B.因材施教
C.乐于奉献
D.依法执教

86. 教育学生的感情基础是（ ）。

- A.爱工作
B.爱教育事业
C.爱学校
D.爱学生

87. 下列选项中，不属于选聘班主任需要考查的条件的是（ ）。

- A.作风正派、心理健康、为人师表
B.热爱学生，善于与学生、学生家长及其他任课教师沟通
C.爱岗敬业，具有较强的教育引导和组织管理能力
D.基础扎实，专业能力强，教学能力过硬

88. 李老师在教学过程中善于捕捉教学情境的细微变化，积极主动的采取应变措施，化不利因素为有利因素，保证教育教学的顺利开展，这体现了教师劳动的（ ）特点。

- A.复杂性
B.创造性
C.示范性
D.长期性

89. 教师自我品德锤炼的方法应该是（ ）。

- A.取法乎上
B.取法乎中
C.取法乎下
D.无法即法

90. “师者，人之楷模也”，这表明教师的劳动具有（ ）。

- A.特殊的复杂性
B.独特的复杂性
C.鲜明的示范性
D.显效的长期性

91. 明明是一名小学生，有一天他的爸爸到学校接他放学，班主任老师当众说：“这么大的小屁孩都管不好，你到底会不会做家长呀！”班主任的语言（ ）。

A.符合师德要求，无可厚非

B.违反了师德规范中的“尊重家长”的要求

C.违背了师德规范中的“严于律己”的要求

D.违反了师德规范中的“以身作则”的要求

92. 春节期间，班主任刘某要求学生集资给老师送礼。学校核实后，拟对该教师给予降低岗位等级处分。根据《中小学教师违反职业道德行为处理办法》，对教师处以降低岗位等级处分的期限是（ ）。

A.3 个月

B.6 个月

C.12 个月

D.24 个月

93. 对学生的培养及全面素质的提高，起关键作用的是教师的（ ）

A.能力

B.学识

C.态度

D.方法

94. “弟子不必不如师，师不必贤于弟子，闻道有先后，术业有专攻，如是而已”，启示我们（ ）。

A.教学相长，相互尊重

B.乐教善教，讲究教法

C.严于律己，为人师表

D.有教无类，教书育人

95. “请请请”成了某些老师的法宝，只要学生犯错，老师就要请家长。对于“请请请”现象，以下说法正确的是（ ）。

A.上梁不正下梁歪，就应该训斥家长

B.如果对学生教育后，他能知错就改，就可以不请家长了

C.应尊重家长，不能叫家长

D.对于表现恶劣的学生，要经常“请请请”予以震慑

96. 教师依靠发自内心的信念对自己教育行为的选择和调节，指的是（ ）。

A.他律

B.自律

C.内省

D.慎独

97. 小强抄同学作业时被发现，被老师叫到了办公室，老师应该（ ）

A.联系小强父母，批评其不监督孩子写作业

B.向小强了解情况，询问未写完作业的原因

C.要求小强不写完作业不许回家

D.要求小强写检讨，不悔过不许上课

98. “每一个学生都有被爱的权利，都应该得到充分的发展。”这就要求教师在工作中应该做到（ ）。

A.爱岗敬业

B.关爱学生

C.团结协作

D.为人师表

99. 现在体育界在国际比赛中得了金牌，奖励一直追溯到运动员的启蒙教练，这说明教师的劳动具有（ ）。

A.未来性

B.滞后性

C.连续性

D.广延性

100. 加强班主任队伍建设是坚持（ ）、德育为先的重要体现。政府有关部门和学校应为班主任开展工作创造有利条件，保障其享有的待遇与权利。

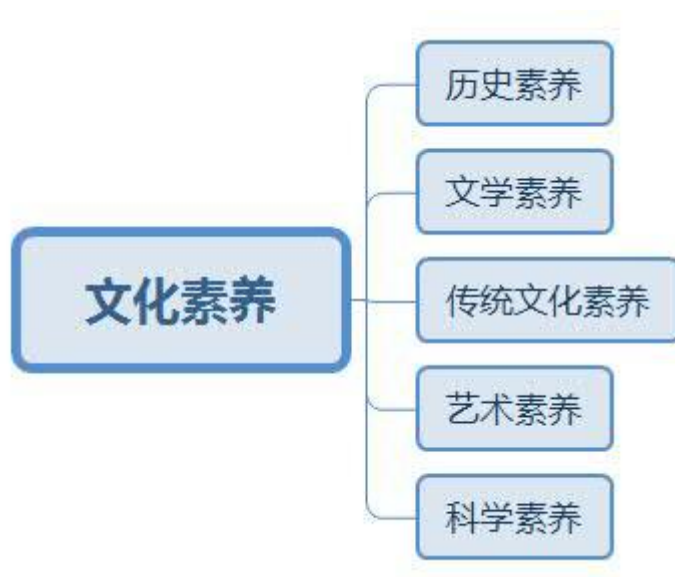
A.关爱学生

B.心理健康

C.育人为本

D.为人师表

四、 文化素养



备考建议

试卷位置：试卷的 17-25 题，9 个单选，共 18 分。

备考建议：范围广难度大，要求上知天文下知地理。需长期积累，有时间多看真题积累知识。

4.1 历史

备考建议

备考建议：出题频率高，重点掌握中国古代史中的先秦历史，尤其以春秋战国为重点。对近代史上的侵略与反侵略战争、抗日战争作简单了解。

世界历史：近几次考试出现次数较多，难度较大，复习大事件，重点了解法国历史。



101. 考古学文化专指考古发现中观察到的属于同一时代、分布于共同地区，并且具有相同特征的一群遗存，大多以第一次发现的典型地点命名。下列选项中，对中国考古学文化，按时间先后排列正确的是（ ）。(24 上中，19 题)

- A. 二里头文化→良渚文化→龙山文化→河姆渡文化
- B. 二里头文化→龙山文化→良渚文化→河姆渡文化
- C. 河姆渡文化→良渚文化→龙山文化→二里头文化
- D. 河姆渡文化→龙山文化→良渚文化→二里头文化

102. 春秋时期，周天子的权威日渐式微，诸侯互相征伐，争霸夺权，在战争中，向对方承诺交战时“退避三舍”的人物是（ ）。(24 上中，20 题)

- A. 楚庄王
- B. 晋文公
- C. 吴王阖闾
- D. 越王勾践

103. 中国古钱币多为金属铸币，有一定的形状、大小、重量、成色，而面多有文字标记，以铜钱、银锭为主，也有铁钱、铅钱、金饼等。圆形方孔是中国古代铜钱的基本造型。下列选项中，最早出现的圆形方孔钱是（ ）。(24 上小，21 题)

- A. 半两钱
- B. 五铢钱
- C. 开元通宝
- D. 永乐通宝

104. 地中海是处于欧洲、亚洲、非洲大陆之间的一片海域。公元前 27 年至公元 476 年，曾有一个庞大帝国横跨欧、亚、非三洲，地中海成为“内海”。这一帝国是（ ）。(24 上，19 题)

- A. 波斯帝国
- B. 罗马帝国
- C. 阿拉伯帝国
- D. 拿破仑帝国

105. 下列选项中，历史文件与历史事件对应正确的是（ ）。(2023 下小，20 题)

- A. 《土地法令》—俄国十月革命
- B. 《独立宣言》—法国大革命
- C. 《人权宣言》—英国资产阶级革命
- D. 《权利法案》—美国南北战争



106. 中国半殖民地半封建社会开端于（ ）。

A. 鸦片战争

B. 马关条约

C. 辛丑条约

D. 百日维新

107. 1857—1859 年印度民族反英大起义中，率领起义军英勇奋战，壮烈牺牲的女英雄是（ ）。

A. 章西女王

B. 贞德

C. 克莱武

D. 甘地

108. 第二次世界大战中，太平洋战场上有很多著名的战役，其中不包括（ ）。

A. 中途岛战役

B. 莱特湾海战

C. 瓜达尔卡纳尔岛战役

D. 诺曼底登陆

109. 雕塑《马踏匈奴》出自（ ）。

A. 秦始皇兵马俑

B. 云冈石窟

C. 霍去病墓

D. 敦煌莫高窟

110. 下列词语均与中国古代科举考试有关的是（ ）。

A. 蟾宫折桂、桂冠、连中三元

B. 问鼎中原、独占鳌头、蟾宫折桂

C. 连中三元、五子登科、名落孙山

D. 金榜题名、桂冠、独占鳌头

111. 被尊为中华民族的人文初祖是（ ）。

A. 黄帝

B. 蚩尤

C. 女娲

D. 仓颉

112. 下列历史事件按时间排序正确的一组是（ ）。

A. 司马迁修《史记》—文景之治—王莽篡汉

B. 杯酒释兵权—岳飞抗金—王安石变法

C. 齐桓公称霸—商鞅变法—秦统一天下

D. 玄武门之变—黄巢起义—安史之乱

113. “三过家门而不入”说的人物是（ ）。

A. 尧

B. 舜

C.禹

D.鯀

114. 采用引漳灌邺的方法使得邺城民富兵强，成为战国时期魏国的东北重镇的人是（ ）。

A.大禹

B.孙叔敖

C.西门豹

D.史禄

115. “有志者事竟成，破釜沉舟，百二秦关终属楚；苦心人天不负，卧薪尝胆，三千越甲可吞吴。”此联所涉及的历史事件分别发生在（ ）。

A.春秋和战国

B.秦末和春秋

C.战国和三国

D.秦初和汉初

116. 唐代壁画中常见胡服，胡服最早由（ ）引入中原。

A.汉灵帝

B.北魏孝文帝

C.隋文帝

D.赵武灵王

117. 中国历史上第一次大规模的农民起义是（ ）。

A.陈胜吴广起义

B.黄巾起义

C.黄巢起义

D.金田起义

118. 秦统一全国后，统一货币的名称为（ ）。

A. “半两”钱

B.五铢钱

C.刀币

D.布币

119. 中国种植葡萄始于（ ）。

A.东汉

B.西汉

C.西晋

D.东晋

120. 丝绸之路是指古代以中国为始发点，向亚洲中部、西部及非洲等地运送丝绸等货物的商业贸易路线，按运输方式可分为陆上丝绸之路和海上丝绸之路。在西汉，陆上丝绸之路的起点为（ ）。

A.敦煌

B.张掖

C.金城（今兰州）

D.长安（今西安）

121. 下列各项所描写的人物中，与其他三项不处于同一时代的是（ ）。

A.功盖三分国，名成八阵图

B.治世之能臣，乱世之奸雄

C.千万雄兵莫敢当，单刀匹马斩颜良

D.江东子弟多才俊，卷土重来未可知

122. “以铜为镜，可以正衣冠，以史为镜，可以知兴替，以人为镜，可以明得失。”是唐太宗对

哪位大臣的评价？（ ）。

- A.长孙无忌
- B.魏徵
- C.尉迟敬德
- D.秦琼

123. （ ）是世界上第一个无产阶级政权的雏形。

- A.苏维埃社会主义临时政府
- B.巴黎公社
- C.苏联
- D.第一国际

124. 马球在中国唐代又称为（ ）。

- A.蹴鞠
- B.飞球
- C.波罗球
- D.罗马球

125. 南宋的建立者是（ ）。

- A.宋太祖赵匡胤
- B.宋光宗赵惇
- C.宋宁宗赵扩
- D.宋高宗赵构

126. 17-18 世纪，欧洲启蒙运动集中彰显了以下哪种精神（ ）。

- A.人文主义
- B.信仰主义
- C.理性主义
- D.自由主义

127. 下列各项中，不属于四大文明古国的是（ ）。

- A.古埃及
- B.古巴比伦
- C.古中国
- D.古希腊

128. 西安古称长安，是中国历史上建都朝代最多的城市，下列朝代建都于此的是（ ）。

- A.隋朝
- B.后周
- C.北宋
- D.东晋

129. 提出“天下兴亡，匹夫有责”的思想家是（ ）。

- A.王夫之
- B.黄宗羲
- C.顾炎武
- D.龚自珍

130. “恸哭六军俱缟素，冲冠一怒为红颜”的“红颜”指的是（ ）。

- A.杨玉环
- B.董小宛
- C.李师师
- D.陈圆圆

131. 关于中国古代货币，下列有关说法不正确的一项是（ ）。

- A.先秦时的“布币”，也叫“铲币”
- B.我国最早的货币形式是“贝币”

C. “孔方兄”指的是圆形方孔铜钱 D. “开元通宝”铜钱始铸于唐太宗时期

132. “风雨巴山遗恨远，至今人念大将军”说的人物是（ ）。

A.邹容 B.张自忠

C.冯玉祥 D.刘湘

133. “漫云女子不英雄，万里乘风独向东！诗思一帆海空阔，梦魂三岛月玲珑。铜驼已陷悲回首，汗马终惭未有功。如许伤心家国恨，那堪客里度春风。”这是女革命者秋瑾的《日人石井君索和即用原韵》，“家国恨”中应不包括（ ）。

A.护国运动 B.第二次鸦片战争

C.甲午战争 D.鸦片战争

134. （ ），晚清中兴四大名臣之一，任湖广总督期间，先后创办了自强学堂（今武汉大学前身）、汉阳铁厂、湖北枪炮厂、湖北纺织官局等。光绪三十年（1905）年，提议废止科举，推行学校制，次年，在中国经历了一千三百年的科举制至此由清政府宣布废止。

A.曾国藩 B.李鸿章

C.张之洞 D.左宗棠

135. 主持修建我国首条铁路——京张铁路的工程师是（ ）。

A.康有为 B.王梦恕

C.詹天佑 D.梁思成

136. 十月革命一声炮响，给中国送来了马克思列宁主义。陈独秀、（ ）等人积极传播马克思主义，倡导运用马克思主义改造中国社会。

A.梁启超 B.康有为

C.章炳麟 D.李大钊

137. 1937年（ ）事变爆发，全面抗战由此开始。

A.九一八 B.一二八

C.华北 D.卢沟桥

138. 下列历史上著名的合称，其所处年代最早的是（ ）。

A.三班 B.三曹

C.三谢 D.三苏

139. 标志着中国新民主主义革命开端的历史事件是（ ）。

A.新文化运动 B.五四运动

C.五卅运动

D.南昌起义

140. () 是三国时期刘备对东吴发动的大规模战役, 是“三大战役”的最后一场。

A.官渡战役

B.赤壁之战

C.夷陵之战

D.淝水之战

141. 党的历史上第一次明确提出无产阶级在民主革命中的领导权和工农联盟问题的是()。

A.中共一大

B.中共二大

C.中共三大

D.中共四大

142. 1937 年 7 月 7 日, 抗日战争全面爆发。11 月 20 日, 国民政府正式迁都() 市。

A.武汉

B.长沙

C.重庆

D.成都

143. “台湾岛在荷兰殖民主义者的血腥统治下, 遍地荆榛, 一片荒凉, 我决心把荷兰侵略者驱逐出台湾岛。经过十多年的浴血斗争, 才把荷兰人赶走, 恢复了先人的基业。”其中的“我”是指()。

A.岳飞

B.郑和

C.戚继光

D.郑成功

144. 中国共产党第五次全国代表大会的召开地点是()。

A.上海

B.北京

C.延安

D.武汉

145. 中国共产党民主革命时期第一个土地法是()。

A.井冈山土地法

B.兴国土地法

C.五四指示

D.中国土地法大纲

146. 最早提出“中国共产党”这一名称是()。

A.陈独秀

B.李大钊

C.蔡和森

D.毛泽东

147. 欧洲启蒙运动时期主张“三权分立”的法国著名思想家是()。

A.卢梭

B.伏尔泰

C.狄德罗

D.孟德斯鸠

148. 中国工人运动史上持续时间最长的一次罢工是()。

A.香港海员罢工

B.广州沙面工人罢工

C.省港大罢工 D.京汉铁路工人大罢工

149. 1945 年抗日战争胜利后，为避免内战、争取和平，中国共产党与国民政府进行的为期 43 天的和平谈判，史称（ ）。

A.重庆谈判 B.西安谈判
C.南京谈判 D.北平谈判

150. 科举制度始于（ ）。

A.北周 B.东汉
C.清朝 D.隋朝

151. 新疆是中国领土不可分割的一部分。在汉代开始，新疆地区正式成为中国版图的一部分。1884 年清政府在新疆地区建省。新疆（ ）和平解放，（ ）10 月 1 日成立新疆维吾尔自治区。

A.1950 年、1955 年 B.1949 年、1955 年
C.1949 年、1949 年 D.1955 年、1955 年

152. 标志着我国进入改革开放新时期的重要会议是（ ）。

A.党的十一届三中全会 B.党的八大
C.党的九届二中全会 D.党的十二大

153. “一国两制”的伟大构想开始提出是针对台湾问题，但付诸于实践是在香港和澳门。香港和澳门回归的时间分别为（ ）。

A.1997 年 7 月 1 日，1999 年 12 月 20 日
B.1997 年 9 月 1 日，1999 年 12 月 21 日
C.1997 年 7 月 1 日，1999 年 12 月 21 日
D.1997 年 9 月 1 日，1999 年 12 月 20 日

154. 以下（ ）是扬州的古称。

A.广陵 B.江都
C.维扬 D.以上都是

155. 2019 年 1 月 10 日，一年一度的“中国社会科学院考古学论坛·2018 年中国考古新发现”在北京举行。四川省（ ）入选 2018 年中国考古新发现 6 项入选项目。

A.渠县城坝遗址 B.三星堆遗址
C.金沙遗址 D.二里头遗址

156. 国家文物局正式公布采用 2001 年出土于成都金沙遗址的（ ）金饰作为“中国文化遗产标识”。

- A.三星神树
- B.资阳人
- C.太阳神鸟
- D.青铜大立人像

157. 1938 年出土于湖南长沙宁乡的商代晚期青铜礼器（ ），以其精湛绝伦的青铜铸造工艺，被誉为“臻于极致的青铜典范”。

- A.司母戊鼎
- B.曾侯乙编钟
- C.四羊方尊
- D.利簋

158. 1972-1974 年，考古工作者先后在湖南长沙发掘了 3 座西汉时期墓葬。被命名为（ ）的这批墓葬结构宏伟复杂完整，出土丝织品、帛书、帛画、中草药等重要文物 3000 余件。

- A.三星堆
- B.曾侯乙墓
- C.马王堆汉墓
- D.海昏侯墓

159. “中国”一词最早的文字记载见于哪件青铜器？（ ）

- A.司母戊鼎
- B.四羊方尊
- C.何尊
- D.长信宫灯

160. 秦始皇帝陵的出土文物中被誉为“青铜之冠”的是（ ）。

- A.青铜权
- B.青铜水禽
- C.青铜剑
- D.青铜车马

161. 下列历史上的战役及主要人物对应正确的是（ ）。

- A.巨鹿之战——项羽
- B.官渡之战——刘备
- C.长平之战——赵奢
- D.牧野之战——刘邦

162. 在世界四大文明古国中，（ ）文明还没断绝。

- A.古印度
- B.古埃及
- C.古巴比伦
- D.中国

163. 被马克思称为第一个人权宣言的宪法性文件是（ ）。

- A.美国《独立宣言》
- B.法国《人权宣言》
- C.英国《人身保护法》
- D.英国《权利法案》

164. 公元前 2 世纪，罗马共和国通过（ ）成为地中海霸主。

- A.希波战争
- B.布匿战争

C.亚历山大东征

D.三角贸易

165. 罗马共和国时期最重要的机构是（ ）。

A.元老院

B.公民大会

C.五百人会议

D.陪审法庭

4.2 文学

备考建议

备考建议：出题较多，重点掌握中国和世界各地代表文人和作品。

真题链接

166. 文庙在中国古代是庙学合一的建筑群，大多是各地的最高学府，在日本、东南亚和朝鲜也有设立。它所供奉和祭祀的人物是（ ）。(24 上小，20 题)

- A.孔子
- B.屈原
- C.诸葛亮
- D.文天祥

167. 《逍遥游》是《庄子》的首篇，想象丰富，文字奇丽，在思想和艺术上都可作为全书的代表。文中提到了一条硕大无比的鱼和一只垂翼蔽日的鸟，它们是（ ）。(24 上幼，22 题)

- A.鲲、凤
- B.鲸、凤
- C.鲲、鹏
- D.鲸、鹏



168. 下图是一幅中国画作品，其所绘的《水浒传》人物是（ ）。(24 上小，23 题)

A.关胜

B.李逵

C.林冲

D.武松

169. 悲剧是戏剧的类型之一，发源于古希腊。由春季祭祀酒神仪式上的酒神颂演变而成，古希腊产生了三大悲剧作家。下列选项中，不属于古希腊悲剧作家的是（ ）。(2023 下中，22 题)

A.埃斯库罗斯

B.欧里庇得斯

C.阿里斯托芬

D.索福克勒斯

170. 弥尔顿是 17 世纪英国伟大的诗人，其后期作品寄意崇高、哲理深刻、气势恢宏、形式精美。下列选项中，属于其作品的是（ ）。(2023 下幼，22 题)

A.《神曲》

B.《唐璜》

C.《西风颂》

D.《失乐园》



考点练习

171. 苏州历史悠久，风景秀美。下列诗句与苏州有关的是（ ）。

A.商女不知亡国恨，隔江犹唱后庭花

B.孤帆远影碧空尽，唯见长江天际流

C.欲把西湖比西子，淡妆浓抹总相宜

D.姑苏城外寒山寺，夜半钟声到客船

172. 中国文学第一部诗歌总集是（ ）。

A.《离骚》

B.《诗经》

C.《九歌》

D.《天问》

173. “路漫漫其修远兮，吾将上下而求索”出自（ ）作者是（ ）。

A.《天问》；屈原

B.《天问》；宋玉

C.《离骚》；屈原

D.《离骚》；宋玉

174. 下列三部著作成书的先后顺序是（ ）。

A.《诗经》-《论语》-《春秋》

B.《春秋》-《诗经》-《论语》

C.《诗经》-《春秋》-《论语》

D.《春秋》-《论语》-《诗经》

175. 《孟子·尽心》中提出“君子有三乐”，以下哪个不属于“三乐”？（ ）

- A.父母俱存，兄弟无故
B.聚钱财而有之
C.仰不愧于天，俯不忤于人
D.得天下英才而教育之
176. “亚圣”指孟子，那“至圣”指儒家哪位代表人物？（ ）
A.孔子
B.程颐
C.朱熹
D.董仲舒
177. 下列古书中不属于“四书”之一的是（ ）。
A.《大学》
B.《春秋》
C.《中庸》
D.《论语》
178. 儒家“五常之道”，贯穿于中华伦理的发展中，是中国价值体系中的最核心因素，那么“五常”指的是（ ）。
A.仁义礼智信
B.温良恭俭让
C.金木水火土
D.礼乐射御书
179. 军事名言“将在外，君命有所不受”出自（ ）。
A.《吴子兵法》
B.《孙子兵法》
C.《孙臆兵法》
D.《尉繚子兵法》
180. “三月不知肉味”这句话一般用来形容（ ）。
A.诗歌
B.音乐
C.小说
D.散文
181. 5000 年的中华文明孕育着丰富的生态智慧。“子钓而不纲，弋不射宿”的提出者是（ ）。
A.孔子
B.荀子
C.墨子
D.老子
182. “德不孤必有邻”出自（ ）。
A.《论语》
B.《孟子》
C.《大学》
D.《中庸》
183. 孟子认为人有“四端”，下列只有（ ）是正确的。
A.恻隐之心，义之端
B.羞恶之心，仁之端
C.辞让之心，礼之端
D.是非之心，信之端
184. 世界上最早的几何光学著作，由墨子和他的弟子们所著的典籍是（ ）。

- A.《墨经》
B.《考工记》
C.《九章算术》
D.《墨子》
185. 俗语“一问三不知”出自《左传》，其中的“三不知”具体是指（ ）。
- A.天文、地理、文学
B.孔子、孟子、老子
C.事情的开始、发展、结果
D.自己的姓名、籍贯、生辰
186. 不属于二十四史的是（ ）。
- A.左传
B.旧唐书
C.史记
D.明史
187. “橘生淮南则为橘，生于淮北则为枳。”出自（ ）。
- A.《春秋》
B.《左传》
C.《吕氏春秋》
D.《晏子春秋》
188. “治国有常，而利民为本”，出自（ ）。
- A.论语
B.老子
C.孟子
D.淮南子
189. 下列作者、作品、朝代对应正确的一项是（ ）。
- A.诸葛亮-《诫子书》-西汉
B.贾谊-《过秦论》-西汉
C.韩愈-《秋声赋》-北宋
D.王安石-《捕蛇者说》-北宋
190. 下列是我国古代的一些历史文化名人，其中属于两汉时期的是（ ）。
- ①老子 ②屈原 ③华佗 ④孔子 ⑤李斯 ⑥孙武 ⑦张衡 ⑧董仲舒
- A.①⑤⑦
B.②⑥⑧
C.③⑦⑧
D.③④⑤
191. “苟利于民，不必法古；苟周于事，不必循旧。”出自（ ）。
- A.淮南子
B.论语
C.荀子
D.孟子
192. 我国古代的“乐府双璧”是指（ ）。
- A.《长歌行》和《木兰诗》
B.《陌上桑》和《子夜歌》
C.《孔雀东南飞》和《子夜歌》
D.《孔雀东南飞》和《木兰诗》
193. “行百里半九十”出自（ ）。
- A.《离骚》
B.《战国策·秦策五》

C.《中庸》 D.《论语》

194. 下列文学作品与其内容、人物关联错误的是（ ）。

A.《鲁宾逊漂流记》-孤岛-星期五 B.《水浒传》-败走麦城-林冲

C.《悲惨世界》-监狱-冉·阿让 D.《三国演义》-六出祁山-诸葛亮

195.《双城记》是一部以法国大革命为背景所写成的长篇历史小说。它的作者是（ ）

A.狄更斯 B.弥尔顿

C.斯威夫特 D.萨克雷

196. “岁月不居，时节如流。”出自（ ）。

A.《老子》 B.《春秋传》

C.《论盛孝章书》 D.《礼记》

197. “及时当勉励，岁月不待人”是谁的名句？（ ）

A.苏轼 B.王安石

C.崔颢 D.陶渊明

198.《昭明文选》的作者是（ ）。

A.萧统 B.苏颂

C.沈括 D.刘勰

199. “落其实者思其（ ），饮其流者怀其源”，请补足诗句。

A.叶 B.根

C.源 D.树

200. “君问归期未有期，巴山夜雨涨秋池。何当共剪西窗烛，却话巴山夜雨时。”为唐代诗人李商隐所作，诗名为（ ）。

A.《入峡次巴东》 B.《巫山高》

C.《离思》 D.《夜雨寄北》

201. “（ ）苦短日高起，从此君王不早朝”，请选择正确的词补全诗句。

A.春风 B.春光

C.春宵 D.春秋

202. 唐代有一种诗体叫“长吉体”，“长吉体”诗善于运用神话传说和怪诞、华美的语汇，创造出异想天开、从未有过的意象。在遣辞与设色方面，多用“泣”、“腥”、“冷”、“血”、“死”之类的字眼以及“冷艳怪丽”的风格，使诗歌带有伤感冷艳的风格，体现诗人的内心

情感。那么。开创“长吉体”诗歌的是（ ）。

- A.李商隐
- B.李贺
- C.李白
- D.李清照

203. “杨柳青青江水平，闻郎江上唱歌声。东边日出西边雨，道是无晴却有晴。”是唐代诗人刘禹锡在（ ）所作。

- A.忠州
- B.夔州
- C.巫山
- D.合州

204. “长风破浪会有时，直挂云帆济沧海”的作者是（ ）。

- A.王勃
- B.杨炯
- C.李白
- D.杜甫

205. 牡丹在我国被誉为“国花”、“国色天香”、和“花中之王”，在世界上也负有盛名，著名描绘牡丹的诗句“唯有牡丹真国色，花开时节动京城”，是诗人（ ）所作。

- A.李白
- B.刘禹锡
- C.韩愈
- D.杜甫

206. “尽道隋亡为此河，至今千里赖通波”中的“此河”是指（ ）？

- A.黄河
- B.大运河
- C.淮河
- D.长江

207. 离别是中国古典诗词中常用的主题，以下诗句（ ）并无离别之意。

- A.海内存知己，天涯若比邻。
- B.返景入深林，复照青苔上。
- C.莫愁前路无知己，天下谁人不识君。
- D.燕燕于飞，差池其羽。之子于归，远送于野。

208. 有一位唐代诗人在对贺知章诵读《乌栖曲》时，被贺知章称赞道“你莫不是天上下凡的仙人吧，不然怎么能写出这么感人的诗呢？”这位被称之为“谪仙人”的诗人是（ ）。

- A.杜甫
- B.李商隐
- C.李白
- D.白居易

209. 在江苏省镇江市西部的云台山麓，有一条有着千年历史的古街——西津渡。唐代诗人（ ）曾经夜宿小山楼，留下诗作《题金陵渡》：“金陵津渡小山楼，一宿行人自可愁，潮落夜江斜月里，两三星火是瓜洲。”

A.张祜

B.李白

C.杜甫

D.杜牧

210. 苏州是一座园林的城市，也是一座诗歌的城市。其中描写了苏州小桥流水的“君到姑苏见，人家尽枕河。古宫闲地少，水港小桥多。”耳熟能详，该诗的作者是（ ）。

A.李白

B.陆游

C.李商隐

D.杜荀鹤

211. “风急天高猿啸哀，渚清沙白鸟飞回。无边落木萧萧下，不尽长江滚滚来。”是唐代诗人杜甫所作（ ）中的前四句。

A.《秋兴八首》

B.《负薪行》

C.《登高》

D.《八阵图》

212. 以下哪一句诗是由王勃所作？（ ）

A.海上生明月，天涯共此时。

B.海内存知己，天涯若比邻。

C.红豆生南国，春来发几枝。

D.君自故乡来，应知故乡事。

213. “故人西辞黄鹤楼，烟花三月下扬州。孤帆远影碧空尽，唯见长江天际流”，是唐代诗人（ ）的诗作。

A.李白

B.孟浩然

C.杜甫

D.刘禹锡

214. “语不惊人死不休”属于（ ）体裁。

A.词

B.绝句

C.律诗

D.散文

215. “语不惊人死不休”是唐代著名诗人杜甫的诗句，杜甫被后世称为（ ）。

A.诗仙

B.诗圣

C.诗佛

D.诗鬼

216. “（ ）风来满眼春，花城柳暗愁杀人”，请选择正确的词补全诗句。

A.东方

B.西方

C.南方

D.北方

217. “相知无远近，万里尚为邻”是唐朝张九龄的诗作，这首诗的题材是（ ）。

A.咏史诗

B.送别诗

C.咏怀诗

D.闺怨诗

218. 李白有诗云：“朝辞白帝彩云间，千里江陵一日还。两岸猿声啼不住，轻舟已过万重山。”

诗中描写的白帝城位于（ ）。

A.巫山县

B.巫溪县

C.云阳县

D.奉节县

219. “历览前贤国与家，成由勤俭破由奢”这句唐诗的意思是，回顾以往的朝代，勤俭能使国家昌盛而奢侈腐败会使国家灭亡，指出了一切政权成败的关键。它的作者是（ ）。

A.李商隐

B.王昌龄

C.令狐楚

D.韩愈

220. “春蚕到死丝方尽，蜡炬成灰泪始干”的作者是（ ）代的（ ）。

A.唐：杜牧

B.宋：杜牧

C.唐：李商隐

D.宋：李商隐

221. “国破山河在，城春草木深”这一诗句的历史背景是（ ）。

A.秦末农民起义

B.三国赤壁之战

C.唐朝安史之乱

D.清朝三藩之乱

222. “故人西辞黄鹤楼，烟花三月下扬州”中的“烟花”指（ ）。

A.梨花

B.雪花

C.春景

D.雾

223. “文章千古事，得失寸心知”是（ ）的名句。

A.李白

B.杜甫

C.杜牧

D.李商隐

224. “不畏浮云遮望眼”出自（ ）。

A.苏轼

B.辛弃疾

C.王安石

D.杜牧

225. 王安石的名句“不畏浮云遮望眼”的下一句是（ ）。

A.两山排闼送青来

B.尚疑身属半山园

C.闻说鸡鸣见日升

D.自缘身在最高层

226. “飞来山上千寻塔，闻说鸡鸣见日升。（ ），自缘身在最高层”，选取以下诗句补齐诗歌。

A.不识庐山真面目

B.不畏浮云遮望眼

C.不畏浮云遮白日

D.蒹葭青山遮望眼

227. 北宋诗人王安石写有《泊船瓜洲》一诗：“京口瓜洲一水间，钟山只隔数重山。春风又绿江南岸，明月何时照我还。”诗中“京口”是现在哪座城市的古称？（ ）

A.扬州

B.南京

C.镇江

D.常州

228. “春风又绿江南岸，明月何时照我还？”出自王安石的诗作《泊船瓜洲》，其中瓜洲隶属于今天（ ）。

A.扬州

B.南京

C.镇江

D.常州

229. “居庙堂之高则忧其民，处江湖之远则忧其君”出自哪篇文章？（ ）

A.《兰亭集序》

B.《醉翁亭记》

C.《岳阳楼记》

D.《滕王阁序》

230. “人生自古谁无死，留取丹心照汗青”是哪位诗人的作品？（ ）。

A.文天祥

B.陆游

C.范仲淹

D.戚继光

231. “生当作人杰，死亦为鬼雄，至今思项羽，不肯过江东。”是谁咏赞项羽的名句？（ ）

A.辛弃疾

B.李清照

C.苏轼

D.柳永

232. 下面与“纸上得来终觉浅”出自同一首诗的是（ ）。

A.少壮工夫老始成

B.九州生气恃风雷

C.繁霜尽是心头血

D.东方风来满眼春

233. （ ）位于福建东南，唐朝时为世界四大口岸之一，宋元时期为“东方第一大港”，被联合国唯一认定为“海上丝绸之路”起点城市。

A.福州

B.厦门

C.泉州

D.广州

234. 元好问的名句“问世间，情是何物？直教生死相许。”原词写的是（ ）。

A.恋人

B.鸳鸯

C.狐狸

D.大雁

235. “乘风好去，长空万里，直下看山河”出自辛弃疾的《太常引·建康中秋夜为吕叔潜赋》，

请问“太常引”是这首词的（ ）。

- A.标题
- B.小序
- C.词牌
- D.曲牌

236. 著名诗句“桂林山水甲天下”的作者王正功是（ ）代诗人。

- A.唐
- B.南宋
- C.明
- D.清

237. “不似天涯，卷起杨花似雪花”出自苏轼的《减字木兰花·立春》。作者苏轼是（ ）朝代的诗人。

- A.唐
- B.宋
- C.元
- D.明

238. “浩荡离愁白日斜，吟鞭东指即天涯。落红不是无情物，化作春泥更护花”的作者与下列哪位不属于同一朝代？（ ）

- A.林则徐
- B.蒋春霖
- C.文天祥
- D.黄燮清

239. 客有问曰：“六一，何谓也？”居士曰：“吾家藏书一万卷，集录三代以来金石遗文一千卷，有琴一张，有棋一局，而常置酒一壶。”客曰：“是为五一尔，奈何？”居士曰：“以吾一翁，老于此五物之间，是岂不为六一乎？”此对话中的“六一”的故事源自于（ ）。

- A.白居易
- B.欧阳修
- C.李白
- D.欧阳询

240. “我家洗砚池边树，朵朵花开淡墨痕。不要人夸好颜色，只留清气满乾坤。”写的植物是（ ）。

- A.梨花
- B.菊花
- C.梅花
- D.玉兰

241. 元末明初诗人唐珙的诗《题龙阳县青草湖》曾因诗境近似唐人被错选入《全唐诗》，下面四句诗正确的排列顺序是（ ）。

- ①醉后不知天在水
 - ②一夜湘君白发多
 - ③西风吹老洞庭波
 - ④满船清梦压星河
- A.③①④②
 - B.④②①③
 - C.③②①④
 - D.④①③②

242. 《项脊轩志》有云：“三五之夜，明月半墙。”“三五”指（ ）。
- A.每隔三天或者五天
B.农历每月十五
C.农历三月初五
D.农历每月初五
243. 江南自古富庶地，风流才子美名扬，江南四大才子是（ ）。
- A.唐伯虎、祝枝山、文征明、周文宾
B.唐伯虎、祝枝山、文征明、沈周
C.唐伯虎、祝枝山、文征明、徐祯卿
D.唐伯虎、祝枝山、周文宾、徐祯卿
244. 明代官员陈诚的诗句“绿野草铺茵，空山雪积银。四时常觉冷，六月不知春”，写的是（ ）的景色。
- A.北欧
B.北极
C.中亚
D.西伯利亚
245. “山郡逢春复乍晴，陂塘分出几泉清？郭边万户皆临水，雪后千峰半入城。”清代诗人王士禛这首诗写的是（ ）。
- A.成都
B.杭州
C.泉州
D.济南
246. 诗句“布谷飞飞劝早耕，春锄扑扑趁春晴。”描绘出一幅热闹的（ ）图。
- A.春耕
B.夏耘
C.秋收
D.冬藏
247. “牧童骑黄牛，歌声振林樾。意欲捕鸣蝉，忽然闭口立”是性灵派名家（ ）的诗。
- A.袁宏道
B.杨万里
C.朱彝尊
D.袁枚
248. 明末清初学者黄宗羲认为西方的几何学来源于（ ）的勾股之学。
- A.《梦溪笔谈》
B.《周髀算经》
C.《九章算术注》
D.《孙子算经》
249. “苟利国家生死以，岂因祸福避趋之”的作者是（ ）。
- A.龚自珍
B.谭嗣同
C.林则徐
D.梁启超
250. “最古之史，实为方志”是（ ）提出的。
- A.章学诚
B.梁启超
C.康有为
D.谭嗣同

251. 请选择正确的词语补全诗句：“中华（ ）多奇志，不爱红装爱武装。”

- A.巾幗
- B.女儿
- C.儿女
- D.女子

252. 风雨送春归，飞雪迎春到。（ ），犹有花枝俏。

- A.已是悬崖百丈冰
- B.已是黄昏独自愁
- C.瀚海阑干百丈冰
- D.六出冰花滚似锦

253. “万类霜天竞自由”的体裁是（ ）。

- A.七律
- B.古风
- C.词
- D.乐府

254. “雄关漫道真如铁，而今迈步从头越”是名作《忆秦娥·娄山关》中的一句词。请问“忆秦娥”是这首词的（ ）。

- A.标题
- B.小序
- C.曲牌
- D.词牌

255. “我到过许多地方数这个城市最年轻 它是这样漂亮 令人一见倾心 不是瀚海蜃楼 不是蓬莱仙境 它的一草一木 都由血汗凝成……”著名诗人艾青的这首诗中“年轻的城”是指现在的（ ）。

- A.深圳市
- B.石河子市
- C.珠海市
- D.上海市

256. 董必武同志的诗句“烟雨迷蒙访旧踪”访的是浙江嘉兴（ ）。

- A.东湖
- B.西湖
- C.太湖
- D.南湖

257. 林徽因，福建闽县（福州）人，出生于浙江杭州。中国著名建筑师、诗人和作家，人民英雄纪念碑和中华人民共和国国徽深化方案的设计者之一，她的文学代表作（ ）广为传诵。

- A.《你是人间四月天》
- B.《断章》
- C.《致大海》
- D.《致橡树》

258. “往事越千年，魏武挥鞭，东临碣石有遗篇”，“遗篇”指的是魏武帝曹操的（ ）。

- A.《观沧海》
- B.《龟虽寿》
- C.《长歌行》
- D.《短歌行》

259. 下列文学常识，说法不正确的一项是（ ）。

- A. 欧美三大短篇小说家：莫泊桑、契诃夫、马克·吐温
- B. 诗句“各领风骚数百年”中的“风骚”指的是《诗经》和《楚辞》
- C. 乐府双璧：《木兰诗》和《孔雀东南飞》
- D. 中国小说四大名著：《三国演义》、《水浒传》、《西游记》、《红楼梦》

260. 《赠诸友》诗写到“志士恨无穷，孤身走西东。投笔（ ）去，刷新旧国风”，请选择正确的字补全诗句。

- A. 报国
- B. 从军
- C. 从戎
- D. 杀敌

261. “人生得一知己足矣，斯世当以同怀视之。”这是鲁迅以清人何瓦琴的联句，书赠（ ）的条幅。鲁迅一直视之为肝胆相照、同心同德的朋友和同志。

- A. 茅盾
- B. 冯雪峰
- C. 瞿秋白
- D. 胡风

262. 微山湖是著名的现代革命斗争纪念地。在抗日战争时期，以微山湖为根据地的“微湖大队”、“运河支队”、“铁道游击队”等革命武装，出没在千顷芦苇荡里，活跃于津浦铁路线上，创造了许多可歌可泣的英雄业绩。刘知侠的长篇小说（ ）即取材于此。

- A. 《沂蒙山的故事》
- B. 《红嫂》
- C. 《铁道游击队》
- D. 《战地日记》

263. 不属于《红楼梦》四大家族的是（ ）。

- A. 贾
- B. 王
- C. 林
- D. 史

264. 下列诗句，与中国和西域的物质文明交流无关的一组是（ ）。

- A. 沧海月明珠有泪，蓝田日暖玉生烟
- B. 兰陵美酒郁金香，玉碗盛来琥珀光
- C. 年年战骨埋荒外，空见葡萄入汉家
- D. 汉家天马出蒲梢，苜蓿榴花遍城郊

265. 下面哪个诗句描写的不是江苏镇江的景观？（ ）

- A. 海日生残夜，江春入旧年
- B. 洛阳亲友如相问，一片冰心在玉壶
- C. 何处望神州？满眼风光北固楼
- D. 水光潋滟晴方好，山色空蒙雨亦奇

266. “鲁迅”是他 1918 年发表（ ）时开始使用的笔名。

- A. 《上海》
- B. 《狂人日记》

C.《寒灰集》

D.《亲爱的丈夫》

267. 下面哪一联诗所表达的内涵与“吟安一个字，捻断数茎须”表达的内涵是一致的：()。

A.致君尧舜上，再使风俗淳

B.行行重行行，与君生别离

C.夜中不能寐，起坐弹鸣琴

D.两句三年得，一吟双泪流

268. 与诗句“水吞三楚白，山接九疑青”所描绘的景致不同的一联诗是()。

A.气蒸云梦泽，波撼岳阳城

B.造化钟神秀，阴阳割昏晓

C.吴楚东南坼，乾坤日夜浮

D.雁引愁心去，山衔好月来

269. 苏美尔—巴比伦文学的最高峰是()。

A.《亡灵书》

B.《奥西里斯神话》

C.《吉尔伽美什》

D.《梨俱吠陀》

270. 《唐·吉珂德》中的仆人形象是()。

A.靡非斯托

B.庞大固埃

C.伊阿古

D.桑丘·潘沙

271. 美国废奴文学的代表作是()。

A.《白鲸》

B.《汤姆·索亚历险记》

C.《汤姆叔叔的小屋》

D.《哈克贝利·费恩历险记》

272. 俄国文学史上的“多余人”形象不包括()。

A.奥涅金

B.奥勃洛摩夫

C.罗亭

D.卡拉马佐夫

273. 德国诗人海涅的代表作是()。

A.《少年维特的烦恼》

B.《强盗》

C.《德国——一个冬天的童话》

D.《阴谋与爱情》

274. 古代印度婆罗门教的经书是()。

A.《旧约》

B.《新约》

C.《古兰经》

D.《吠陀》

275. 印度古代文学史上最杰出的诗人和剧作家是()。

A.首陀罗迦

B.广博仙人

C.迦梨陀娑

D.蚁垤仙人

276. 《沙恭达罗》的男主人公是()。

A.豆扇陀

B.苦沙弥

C.光源氏

D.辛伯达

277. 中古日本的第一部和歌总集是（ ）。

A.《万叶集》

B.《怀风藻》

C.《古事记》

D.《五卷书》

278. 代表越南中古文学最高成就的作品是（ ）。

A.《沈清传》

B.《金云翘传》

C.《春香传》

D.《十公子传》

279. 《蔷薇园》的作者萨迪是（ ）。

A.阿拉伯人

B.波斯人

C.印度人

D.日本人

280. 英国作家萨克雷的代表作是（ ）。

A.《教师》

B.《玛丽·巴顿》

C.《名利场》

D.《呼啸山庄》

4.3 传统文化

备考建议

备考建议：出现次数较多，难度一般，建议掌握题目考点，多做多背。

真题链接

281. 陆游的《游山西村》中有诗句“箫鼓追随春社近，衣冠简朴古风存”。下列说法中，对“春社”的理解正确的是（ ）。(24 上幼，23 题)

- A. 祭祀财神的节日
- B. 祭祀灶神的节日
- C. 祭祀水神的节日
- D. 祭祀土神的节日

282. 与“洛阳纸贵”这一成语故事相关的作品及其作者是（ ）。(2023 下小，24 题)

- A. 《西京赋》张衡
- B. 《甘泉赋》扬雄
- C. 《三都赋》左思
- D. 《长门赋》司马相如

283. 我国农谚说：“到了惊蛰节，耕地不能歇”，让孩子据此作画，需提示该画背景所对应的季节是（ ）。(2023 上幼，22 题)

- A. 春
- B. 夏
- C. 秋
- D. 冬

284. 我国的成语常与历史传说和人物有关。成语“入木三分”原指字迹的墨汁透入木板有三分深，后来形容书法笔力遒劲，也常用以比喻见解、议论深刻确切。与这个历史传说相关的书法家是（ ）。(2022 上中，21 题)

- A. 王献之
- B. 王羲之
- C. 颜真卿
- D. 柳公权

285. 干支是天干和地支的合称。以十干同十二支循环相配，古代用来表示年、月、日和时的次序，周而复始，循环使用，现今夏历的年 and 日仍用干支计。下列干支名称中，属于地支的是（ ）。(2021 上小，22 题)

- A. 甲
- B. 壬

C.癸

D.申



考点练习

286. 人们为何称妇女为“巾帼”？（ ）

A. 妇女戴的头饰叫巾帼

B. 妇女善于织造

C. 源于一个叫巾帼的女子的典故

D. 源于一个叫巾帼的地方

287. 古代社会人们尊称对方的女儿是（ ）。

A. 令尊

B. 令堂

C. 令郎

D. 令媛

288. 下列各句所涉及的年龄，其中最小的是（ ）。

A. 余自束发读书轩中

B. 豆蔻梢头二月初

C. 既加冠，益慕圣贤之道

D. 二八佳人细马驮

289. “不惑之年”指的是（ ）。

A. 二十岁

B. 三十岁

C. 四十岁

D. 五十岁

290. 2015 年 7 月 1 日，内蒙古政府新闻办公室召开新闻发布会，向外界公布了内蒙古“十大文化符号”。以下是内蒙古文化符号的是（ ）。

①马头琴

②吊脚楼

③敖包

④唐卡绘画艺术

A. ①④

B. ②③

C. ①③

D. ①②④

291. 中国传统四大节日中，端午是中国首个被列入世界非物质文化遗产的节日。下列诗句描写端午节的是（ ）。

A. 彩线轻缠红玉臂，小符斜挂绿云

B. 借问酒家何处有？牧童遥指杏花村

C. 暮云收尽溢清寒，银汉无声转玉盘

D. 独在异乡为异客，每逢佳节倍思亲

292. 子夜是指现在的（ ）。

A. 北京时间 23 时至 01 时

B. 北京时间 23 时

C. 北京时间 24 时

D. 北京时间凌晨一点时

293. 1980 年我国发行第一套生肖邮票的名称和图案分别是（ ）。

A.庚申年 猴

B.丁酉年 鸡

C.壬申年 猴

D.辛酉年 鸡

294. 下列节气中，与“遥知兄弟登高处，遍插茱萸少一人”描写的时间最接近的是（ ）。

A.谷雨

B.冬至

C.清明

D.霜降

295. 中国古代兵器（ ）除了是实战作用，又被列于门前，体现主人身份地位。

A.戈

B.矛

C.钺

D.戟

4.4 艺术

备考建议

备考建议：出题频率较高，难度不等，建议重点看透真题，多背多练。

真题链接

296. 琴与瑟是古代的两种乐器，皆由木制，带有空腔，以丝绳为弦。琴一般用于在宾客面前弹拨，瑟则用于背景音乐的弹奏，古代常将两者的联合演奏比喻夫妻感情的和谐。琴多用七弦，瑟的弦数通常是（ ）。(24 上中，24 题)

- A.十
- B.二十二
- C.二十五
- D.五十

297. 把浪漫主义的时代风格和爱国主义的精神内容紧密地融合在音乐作品中，创作了《军队波兰舞曲》等作品的浪漫主义代表作曲家是（ ）。(24 上，25 题)

- A.海顿
- B.肖邦
- C.莫扎特
- D.李斯特

298. 打击乐器指由于敲打乐器本身而发音的一类乐器，音色因乐器材料的不同而各异。我国古代发明了多种打击乐器，下列选项中，多以石和玉为材料的打击乐器是（ ）。(24 上小，25 题)

- A.钟
- B.锁
- C.磬
- D.鼓

299. 毕加索是著名艺术家，其著名作品有《格尔尼卡》《和平鸽》等。毕加索的国籍是（ ）。(2022 下幼，25 题)

- A.法国
- B.荷兰
- C.葡萄牙
- D.西班牙

300. 下列人物，属于奥地利作曲家的是（ ）。(22 上小，23 题)

- A.舒曼
- B.海顿

C.贝多芬

D.李斯特



考点练习

301. 中国刺绣是在布上“以针代笔，以线晕色”的艺术，我国的刺绣驰名世界，被誉为“东方艺术明珠”，四大名绣不包括（ ）。

A.苏绣

B.顾绣

C.蜀绣

D.湘绣

302. 严格来说，我国“唐三彩”属于（ ）技术。

A.制陶

B.纺纱

C.冶铁

D.造房

303. 汉字产生的标志是殷商后期所形成的初步定型的甲骨文，其后经过了六千多年的演变，形成了我们今天的文字。下列汉字演变过程的时间排序正确的是（ ）。

A.隶书、小篆、楷书、行书

B.小篆、隶书、行书、楷书

C.小篆、隶书、楷书、行书

D.隶书、小篆、行书、楷书

304. （ ）是北宋著名的书法家、文学家、茶学家，亦是北宋名臣，其书法自成一体，为“宋四家”之一，著有茶学专著《茶录》和果树分类学著作《荔枝谱》。

A.蔡襄

B.李纲

C.李贽

D.苏轼

305. 秦统一全国后，统一的标准文字是（ ）。

A.隶书

B.大篆

C.小篆

D.金文

306. （ ）是明代著名书画家，松江华亭人，“华亭学派”杰出代表，兼有“颜骨赵姿”之美。

A.董其昌

B.董源

C.黄公望

D.倪瓒

307. 中国现存最早的一副山水画是（ ）。

A.《秋郊饮马图》

B.《游春图》

C.《春深高树图》

D.《荷石水禽图》

308. 我国古代用“金”“石”“丝”“竹”指代不同材质、类别的乐器。下列诗词涉及“竹”的是（ ）。

- A. 珠帘夕殿闻钟磬，白日秋天忆鼓鼙
- B. 主人有酒欢今夕，请奏鸣琴广陵客
- C. 深秋帘幕千家雨，落日楼台一笛风
- D. 哀箏一弄湘江曲，声声写尽湘波绿

309. 京剧脸谱，是一种具有中国文化特色的特殊化妆方法。其中表示忠勇义烈的是（ ）。

- A. 红色
- B. 黑色
- C. 白色
- D. 蓝色

310. 我国的京剧脸谱色彩含义丰富，红色一般表示忠勇侠义，白色一般表示阴险奸诈，那么黑色一般表示（ ）。

- A. 舍己为人
- B. 不徇私情
- C. 刚正不阿
- D. 大义灭亲

311. “三五步走遍天下，七八人百万雄兵”“咫尺地五湖四海，几更时万古千秋”，这些诗句是对下列中国哪种传统艺术特点的描述（ ）。

- A. 魔术
- B. 绘画
- C. 戏剧
- D. 杂技

312. 川剧主要由昆腔、（ ）、胡琴、弹戏、灯调五种声腔组成。

- A. 西皮
- B. 高腔
- C. 二黄
- D. 京腔

313. 下列风俗均与中秋节相关的是（ ）。

- A. 燃灯、观潮、祭月
- B. 赏月、喝雄黄酒、插菖蒲
- C. 赏菊花、饮菊花酒、插茱萸
- D. 乞巧、插柳、放风筝

314. 一个国家中的文化精华，称其为“国粹”。中国的三大国粹是（ ）。

- A. 儒学、国画和针灸
- B. 茶艺、昆曲和武术
- C. 瓷器、书法和儒学
- D. 国画、京剧和中医

315. 曾有“绣花花生香，绣鸟能听声，绣虎能奔跑，绣人能传神”美誉的是（ ）。

- A. 苏绣
- B. 蜀绣
- C. 湘绣
- D. 粤绣

4.5 科技

备考建议

备考建议：出题频率较高，难度一般，建议对《综合素质》科技部分重点掌握。

真题链接

316. 世界上最早提出小孔成像现象的书籍是（ ）。(24 上中，21 题)

- A. 《老子》
- B. 《管子》
- C. 《孟子》
- D. 《墨子》

317. “百科全书”是以条目为单元，汇集阐述各科门类或某一门类知识的较完备的辞书。法国启蒙运动时期编撰出版的《百科全书》是世界上影响巨大、具有重大历史意义的现代百科全书。这部《百科全书》的主编是（ ）。(24 上小，22 题)

- A. 培根
- B. 席勒
- C. 狄德罗
- D. 伏尔泰

318. 早期电报普遍使用由点横两种符号组成的电码，创造这一电码的科学家是（ ）。(24 上幼，18 题)

- A. 贝尔
- B. 莫尔斯
- C. 特斯拉
- D. 爱迪生

319. 杂交是不同种属或品种的动物或植物交配或结合，可分为天然杂交和人工杂交。中国人在两千年前就注意到了杂交的优势，此后不断利用杂交优势进行育种，明代有典籍记录了运用人工杂交育种培育优良蚕种，该典籍是（ ）。(2023 上幼，21 题)

- A. 《齐民要术》
- B. 《农桑辑要》
- C. 《天工开物》
- D. 《授时通考》

320. 第一次工业革命中蒸汽机出现，带动了一系列的发明，人们利用蒸汽机在各领域改进生产，提高效率。下列人物中，设计并制造了世界上第一台商用蒸汽机车的是（ ）。(2022 上小，19 题)

A.瓦特
C.惠特尼

B.富尔顿
D.斯蒂芬森



考点练习

321. 医学体操的发明者是（ ）。

A.华佗
C.扁鹊

B.张仲景
D.董奉

322. 我国是最早发明印刷术的国家，唐朝印刷的（ ）是世界上现存最早的，标有确切日期的雕版印刷品。

A.《金刚经》
C.《农政全书》

B.《天工开物》
D.《永乐大典》

323. 2021 年 5 月 22 日，杂交水稻之父袁隆平永远地离开了我们。中国和世界人民深感悲痛。民以食为天，华夏儿女历来关注农业生产，请问我国现存最早的一部完整的农书是（ ）。

A.《农政全书》
C.《本草纲目》

B.《齐民要术》
D.《天工开物》

324. 我国考古中发现目前世界上最早的纸是（ ）时期的。

A.东汉
C.西周

B.商朝
D.西汉

325. 中国古代“四大发明”中，为哥伦布、麦哲伦实现远洋航行提供重要技术保证的是（ ）。

A.火药
C.印刷术

B.指南针
D.造纸术

326. 北宋（ ）发明的活字印刷术比欧洲早 400 年。

A.蔡伦
C.沈括

B.毕昇
D.王祯

327. （ ）认为数学是天地万物最根本的东西，是“四时之终始，万物之祖宗”。

A.《海岛算经》
C.《九章算术》

B.《周髀算经》
D.《孙子算经》

328. 宋代著名数学家秦九韶的著作（ ）提出了“正负开方术”和“大衍求一术”。

- A.《海岛算经》
B.《数书九章》
C.《九章算术》
D.《孙子算经》

329. 最早发明汽车的人是（ ）。

- A.德国钟表匠赫丘
B.德国发明家奥托
C.德国发明家本茨
D.德国发明家戴姆拉

330. 有“中国的欧几里德”“中国数学史上的牛顿”之称的是（ ）。

- A.刘徽
B.祖冲之
C.秦九韶
D.杨辉

331. 祖冲之是中国南北朝时期的数学家和天文学家，他在数学方面的突出贡献是将圆周率的精确度计算到小数点后第 7 位，也就是在 3.1415926 和 3.1415927 之间。这一成就比欧洲早了（ ）多年。

- A.300
B.600
C.800
D.1000

332. 我国最早求出圆周率第七位有效数字的人是（ ）。

- A.李密
B.刘徽
C.杨辉
D.祖冲之

333. 中医著名古籍《黄帝内经》约成书于什么时期？（ ）

- A.春秋战国时期
B.魏晋时期
C.唐宋时期
D.秦汉时期

334. 最具有世界影响力的一部不朽医典是（ ）。它采取了“析族区类，振纲分目”的科学分类。

- A.《外科正宗》
B.《千金方》
C.《救荒本草》
D.《本草纲目》

335. 2015 年，中国科学家屠呦呦获得了诺贝尔生理学或医学奖，这是我们中国人的骄傲。在我国古代，也有一项世界医学史上的创举一麻沸散。它问世于（ ）。

- A.春秋战国时期
B.秦朝
C.汉朝
D.明朝

336. 唐朝著名医学家孙思邈所著的（ ）中明确指出：“君亲有疾不能疗之者，非忠孝也”，把医学当作儒者尽孝道的必修之学。

- A.《针灸甲乙经》
B.《外台秘要方》
C.《备急千金要方》
D.《本草纲目》

337. 我国科学家屠呦呦提取了中药成分（ ）用于抗疟疾，因而获得了 2015 年诺贝尔生理学或医学奖。

- A.青霉素
B.氯喹
C.青蒿素
D.胰岛素

338. 我国现存最早的药理学著作是（ ）。

- A.《伤寒杂病论》
B.《神农本草经》
C.《本草纲目》
D.《黄帝内经》

339. 最早采用人工呼吸方法救人的医学家是（ ）。

- A.扁鹊
B.华佗
C.张仲景
D.王叔和

340. 中国古代药学史上部头最大、内容最丰富的药学巨著是（ ），被达尔文誉为“中国古代的百科全书”。

- A.《黄帝内经》
B.《本草纲目》
C.《千金方》
D.《金匱要略》

341. 被认为是“我国现存最早总结江南水稻地区栽培技术的一部农书”的著作是（ ）。

- A.《陈旉农书》
B.《农桑辑要》
C.《王祯农书》
D.《农政全书》

342. 东汉时期崔寔撰写的（ ）被认为是“中国古代农书中农家月令这一系统最早的代表作”。

- A.《礼记·月令》
B.《农桑辑要》
C.《四民月令》
D.《农政全书》

343. 我国历史上最早的农业科学著作是（ ）。

- A.《汜胜之书》
B.《齐民要术》
C.《耒耜经》
D.《农书》

344. （ ）是北宋时期一位以博学著称的科学家，在天文历法、数学、物理学、地学、医药学等方面均有建树，著有《梦溪笔谈》，被科学史家李约瑟称为是“中国整部科学史上最卓越的人物”。

- A.张衡
C.沈括
- B.宋应星
D.郭守敬

345. 我国元代科学家郭守敬主要贡献在（ ）方面。

- A.农学
C.药理学
- B.植物学
D.天文学

346. 苏颂，字子容，汉族，原籍福建泉州府同安县（今属厦门市同安区）人。北宋中期宰相，杰出的天文学家、天文机械制造家、药物学家。他领导制造出世界上最古老的天文钟（ ）开启近代钟表擒纵器的先河。李约瑟称其为“中国古代和中世纪最伟大的博物学家和科学家之一”。

- A.地动仪
C.水运仪象台
- B.浑天仪
D.简仪

347. 中国历史上首次采用古今对照，双色绘画的地理图是（ ）。

- A.《舆地图》
C.《禹贡地域图》
- B.《地形方丈图》
D.《海内华夷图》

348. 被李约瑟称之为“中国历史上最早出现的自然地理考察著作”的是（ ）。

- A.《尚书·尧典》
C.《尚书·皋陶谟》
- B.《尚书·禹贡》
D.《尚书·顾命》

349. 世界上现存最早的航海图是（ ）。

- A.《郑和航海图》
C.《徐霞客游记》
- B.《皇輿全览图》
D.《水经注》

350. 被李约瑟称为优秀地理著作的《天下郡国利病书》是明代大儒（ ）所撰。

- A.顾炎武
C.王夫之
- B.黄宗羲
D.曾国藩

351. 《营造法式》堪称古代建筑学的一部百科全书，是由北宋建筑师（ ）编著的。

- A.李诫
C.雷发达
- B.李春
D.刘秉忠

352. 世界现存最大、最完整的木质结构的古代皇宫建筑群是（ ）。

- A.卢浮宫
C.凡尔赛宫
- B.北京故宫
D.曲阜孔庙

353. 中科大潘建伟教授团队，与合作者利用（ ）量子科学实验卫星，首次实现距离达 7600 公里的洲际量子密钥分发，实现加密数据传输和视频通信。

- A. 悟空号
- B. 墨子号
- C. 天宫二号
- D. 神舟十一号

354. 2008 年“神舟”七号发射升空，（ ）首次进行了太空行走。

- A. 杨利伟
- B. 翟志刚
- C. 费俊龙
- D. 景海鹏

355. 我国海军第一艘装备有防空导弹的军舰是（ ）。

- A. 鹰潭号
- B. 铜陵号
- C. 鞍山号
- D. 宜昌号

356. 嫦娥四号探测器是在我国（ ）发射成功的。

- A. 酒泉发射基地
- B. 西昌发射基地
- C. 太原发射基地
- D. 文昌发射基地

357. 嫦娥四号探测器是用（ ）火箭发射的。

- A. 长征三号甲
- B. 长征三号乙
- C. 长征三号丙
- D. 长征三号丁

358. 银河 1 号是我国第一台超级计算机，银河 1 号于（ ）年研制完成。

- A. 1981 年
- B. 1983 年
- C. 1985 年
- D. 1987 年

359. 中国第一个目标飞行器和空间实验室是（ ）。

- A. 天问一号
- B. 东方红一号
- C. 风云一号
- D. 天宫一号

360. 以下不属于“天下之名巧”——马钧发明的是（ ）。

- A. 新式织绡机
- B. 龙骨水车
- C. 轮转式发石机
- D. 锯子

4.6 科学

备考建议

备考建议：出题频率较高，范围跨度较大，难度不等，性价比低，不建议过度准备，需重点看透真题。

真题链接

361. 每个省份都有自己的简称，下列省份与简称对应不一致的是（ ）。(24 上中，17 题)

A.河北—冀

B.海南—粤

C.河南—豫

D.湖北—鄂

362. “板块构造学说”认为地球由若干板块组成，这些板块“漂浮”在软流层上。下列选项中在该学说中不存在的板块是（ ）。(24 上幼，17 题)

A.欧亚板块

B.太平洋板块

C.非洲板块

D.北冰洋板块

363. 气象灾害预警信号是为有效防御和减轻气象灾害，向社会公众发布的预警信息。按灾害的严重程度、紧急程度和发展态势设为 4 级。下列选项中，按一般、较重、严重和特别严重的顺序，排列正确的是（ ）。(24 上中，18 题)

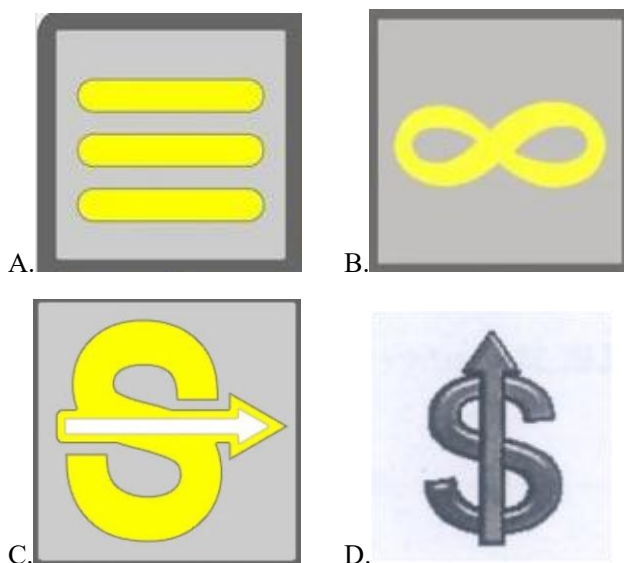
A.黄色 橙色 蓝色 红色

B.黄色 蓝色 红色 橙色

C.蓝色 黄色 橙色 红色

D.蓝色 黄色 红色 橙色

364. 天气图形符号是公共气象服务中传递阴、晴、雨、雪、风、雷等气象信息的基本方式之一，在各类新闻媒体上广泛使用。下列天气图形符号中，表示沙尘暴的是（ ）。(2023 下幼，18 题)



365. 科学发现可以通过观察实验得到，也可以通过理论推算得到。1846 年，法国天文学家勒维耶和英国天文学家亚当斯根据天体力学理论，几乎同时计算出一颗新行星的位置，这颗新行星是（ ）。(2023 上幼，19 题)

- A.火星
- B.木星
- C.海王星
- D.天王星



考点练习

366. 气象灾害预警信号的颜色等级，按危害从低到高排列的顺序是（ ）。

- A.蓝-橙-黄-红
- B.橙-黄-蓝-红
- C.蓝-黄-橙-红
- D.橙-蓝-黄-红

367. 臭氧层能使地球上的生物免遭（ ）的伤害。

- A.紫外线
- B.红外线
- C.可见光
- D.远外外线

368. 如果小华在小丽北偏东 40° 的位置上，那么小丽在小华的（ ）位置上。

- A.南偏西 50°
- B.北偏东 50°
- C.南偏西 40°
- D.北偏东 40°

369. 太阳的外部结构即太阳的大气层，依厚度、亮度从内向外分为（ ）。

- A.光球层、色球层、日冕层
- B.光球层、日冕层、色球层
- C.日冕层、光球层、色球层
- D.色球层、日冕层、光球层

370. 下面选项不是霾的主要来源的有（ ）。

- A.汽车尾气
- B.工业生产
- C.海水蒸发
- D.火力发电

371. 岩石按其地质成因划分为火成岩、沉积岩与变质岩三大类。（ ）是三大类岩石的主体，占地壳岩石体积的 60%以上。

- A.火成岩
- B.沉积岩
- C.变质岩
- D.石英岩

372. 在大气层中，最靠近地球表面的一层为（ ）。

- A.平流层
- B.暖层
- C.对流层
- D.散逸层

373. “纳米”是（ ）。

- A.一种高科技材料
- B.长度计量单位之一
- C.水稻新品种
- D.体积计量单位之一

374. 地球大气中的二氧化碳含量不断增加的主要后果是（ ）。

- A.产生温室效应
- B.破坏臭氧层
- C.产生酸雨
- D.毒害农作物

375. 苏州园林是中国（ ）园林的代表，被联合国教科文组织列为世界文化遗产。

- A.国家
- B.皇家
- C.江南
- D.寺观

376. 下列国家与首都对应错误的是（ ）。

- A.巴西-利马
- B.土耳其-安卡拉
- C.突尼斯-突尼斯
- D.白俄罗斯-明斯克

377. 如果你想要感受“五岳风景”，那么你最不可能去的省份是（ ）。

- A.湖南省
- B.湖北省
- C.陕西省
- D.山西省

378. 苏州园林吸收了江南园林建筑艺术的精华，狮子林、沧浪亭、留园和（ ）统称为“苏州四大名园”。

- A.虎丘
- B.怡园
- C.拙政园
- D.耦园

379. 在太阳系，下列行星中，卫星最多的是（ ）。
- A.火星
B.土星
C.木星
D.海王星
380. 夏天从冰箱里取出一瓶啤酒，发现啤酒外面“出汗”，对这种现象正确的解释是（ ）。
- A.酒从瓶中渗出
B.空气中水蒸气汽化
C.啤酒瓶上的水汽化
D.空气中水蒸气遇冷液化
381. 我国为什么总是朝东发射卫星和飞船？（ ）
- A.因为中国处于亚洲东方
B.因为太阳从东方升起
C.可利用地球自西向东自转的地速
D.可使分离的整流罩和箭体落在国内
382. 有工业“黄金”之称，已探明在我国的储量占世界四分之一左右的稀有资源是（ ）。
- A.钨金
B.云母石
C.稀土
D.锡矿
383. 我国领土面积在世界上居于（ ）。
- A.第一位
B.第二位
C.第三位
D.第四位
384. 柴达木盆地是我国的四大盆地之一，它位于我国的（ ）。
- A.云贵高原
B.青藏高原
C.内蒙古高原
D.黄土高原
385. 永定河是北京的“母亲河”，全河流经山西、内蒙古、河北、北京、天津五省市，入（ ）。
- A.渤海
B.黄海
C.青海
D.东海
386. 长江是世界第（ ）大河，流经湖北里程达 1061 公里。
- A.二
B.三
C.四
D.五
387. “南湖秋水夜无烟，耐可乘流直上天？且就洞庭赊月色，将船买酒白云边。”该诗中的南湖是指（ ）。
- A.洪泽湖
B.洞庭湖
C.鄱阳湖
D.青海湖
388. 中国第一大淡水湖是（ ）。

- A.鄱阳湖
B.洞庭湖
C.太湖
D.青海湖

389. 绥芬河从我国流入（ ）。

- A.俄罗斯
B.朝鲜
C.印度
D.缅甸

390. 我国共有（ ）个少数民族。

- A.55
B.56
C.57
D.58

391. 我国的民族自治地方指（ ）。

- A.自治区、自治县
B.自治区、自治州、自治县
C.自治区、自治州、民族乡
D.自治州、自治县

392. 中国拥有世界上最全的地形地貌，平原、山地、丘陵、高原和盆地。在我国四大高原中被称为“世界屋脊”的是（ ）。

- A.青藏高原
B.云贵高原
C.黄土高原
D.内蒙古高原

393. 发源于长白山的松花江滋养了东北大地，与东北人的生活息息相关。下列关于松花江表述错误的是（ ）。

- A.松花江是东北境内航运价值较大的河流
B.松花江流域属温带季风气候
C.松花江是中国黑龙江最小的支流
D.吉林市位于松花江沿岸

394. 湄公河是东南亚重要的国际河流，其上游是我国境内的（ ）。

- A.怒江
B.澜沧江
C.雅鲁藏布江
D.长江

395. “桂林山水”属于（ ）地貌。

- A.喀斯特
B.冰川
C.风蚀
D.丹霞

396. 中国最大的岛屿是（ ）。

- A.台湾岛
B.涠洲岛
C.海南岛
D.崇明岛

397. 地球表面约（ ）被水覆盖。

A.31% B.51%

C.71% D.91%

398. 我国采取的“北京时间”实际上是（ ）的时间。

A.东六区 B.东七区

C.东八区 D.东九区

399. 被称为“中国银杏之乡”的城市是（ ）。

A.泰兴 B.江阴

C.溧阳 D.溧水

400. 有关我国地理位置的叙述，正确的是（ ）。

A.位于西半球、北半球

B.纬度最低，大部分地区位于热带

C.领土最东端在新疆维吾尔自治区帕米尔高原上

D.位于亚洲东部，太平洋的西岸，是一个海陆兼备的国家

401. 我国首次在（ ）海域发现裸露在海底的“可燃冰”。

A.南海 B.北海

C.东海 D.西海

402. 唐朝诗人王昌龄《芙蓉楼送辛渐》中芙蓉楼位于（ ）。

A.南京 B.镇江

C.扬州 D.泰州

403. 近代中国四大米市是（ ）。

A.长沙、九江、芜湖、无锡 B.长沙、芜湖、汉口、无锡

C.长沙、九江、安庆、苏州 D.长沙、九江、芜湖、苏州

404. 长江三峡是瞿塘峡、西陵峡和（ ）的总称。

A.巫峡 B.龙门峡

C.巴雾峡 D.滴翠峡

405. 三江源是我国最大的自然保护区，位于青藏高原的腹地，有“中华水塔”的美誉。“三江源”中的“三江”指澜沧江、长江和（ ）。

A.黄河 B.怒江

C.雅鲁藏布江 D.闽江

406. 成语“一衣带水”中的“水”原指（ ）。
- A.黄河 B.长江
C.淮河 D.海河
407. 假如重力突然消失，下列情况仍然存在的是（ ）。
- A.万马奔腾 B.川流不息
C.五光十色 D.短斤少两
408. 热量传递主要有三种基本方式，即导热、热对流和（ ）。
- A.照射 B.加热
C.热辐射 D.吸收
409. 所谓“隐形飞机”是指（ ）的飞机。
- A.眼睛看不见 B.飞行太高看不见
C.透明 D.雷达测不到
410. 按照目前物理科学研究的最新成果，构成物质的最小单位是（ ）。
- A.夸克 B.质子
C.中子 D.纳米
411. 按照广义相对论，爱因斯坦曾预言了三个重要效应，下面（ ）不是爱因斯坦所预言的。
- A.光线在引力场中的偏转 B.水星轨道近日点的进动
C.中子星的周期性脉冲辐射 D.光谱线的红向移动
412. 当光从一种介质穿到另一种介质中时，它会（ ）。
- A.改变方向 B.改变速度
C.发生偏折（非垂直入射） D.以上全是
413. 气体可压缩存储在钢瓶中是因为（ ）。
- A.分子之间有间隔 B.分子有弹性
C.分子不断运动 D.分子可分解为原子
414. 锂离子电池充电时，锂离子运动的方向是（ ）。
- A.锂离子从负极运动到正极 B.锂离子从正极运动到负极
C.锂离子在正负两极来回运动 D.锂离子无规则运动
415. 关于功率和机械效率，下列说法正确的是（ ）。

- A.机械效率越高，机械做功一定越快 B.做功越多的机械，机械效率一定越高
C.功率越大的机械做的功一定越多 D.做功越快的机械，功率一定越大
416. 正在通电使用的灯泡反复出现时暗时亮的现象，可能是电路存在（ ）故障。
A.短路 B.断路
C.接触不良 D.过负荷
417. 许多人喜欢面食，制作馒头等面食时需要用到小苏打，小苏打的学术名称是（ ）。
A.氧化钠 B.氢氧化钠
C.碳酸氢钠 D.碳酸钠
418. “粉身碎骨全不怕，要留清白在人间”写的是（ ）。
A.石膏 B.玉石
C.石灰 D.瓷器
419. 自来水最普遍的消毒方法是（ ）。
A.氯气消毒法 B.臭氧消毒法
C.二氧化氯消毒法 D.漂白粉消毒法
420. 燃烧是一种发热发光的（ ）。
A.化学反应 B.物理反应
C.光电反应 D.核反应
421. 稻、黍、稷、麦、菽均是我国种植历史悠久的农作物，其中的“菽”是指（ ）。
A.叶菜类 B.薯类
C.豆类 D.高粱
422. 有些人喝品质合格的牛奶会腹痛，最有可能的原因是（ ）。
A.牛奶过凉 B.乳糖不耐受
C.不喜欢喝造成心理压力 D.肠胃不佳
423. 生物体的组成方式从简单到复杂的排列顺序是（ ）。
A.细胞，组织，器官，器官系统 B.器官系统，器官，组织，细胞
C.组织，细胞，器官系统，器官 D.组织，细胞，器官，器官系统
424. 除病毒外，组成生物体的基本单位是（ ）。
A.原子 B.有机体
C.细胞 D.器官

425. 干细胞是指（ ）。

- A.已经脱水的细胞
- B.具有自我更新能力，并且可以分化为其它类型细胞的“种子”细胞
- C.胚胎
- D.肝脏来源的细胞

426. DNA 分子的结构是（ ）。

- A.线型结构
- B.双螺旋结构
- C.环状结构
- D.带状结构

427. “咬定青山不放松，立根原在破岩中。千磨万击还坚劲，任尔东西南北风”写的植物是（ ）。

- A.松树
- B.野草
- C.竹子
- D.柏树

428. DNA 是（ ）英文名称的缩写，是生物体内的一种生物大分子化合物，它包含有遗传信息，担负着生命的遗传功能。

- A.磷酸
- B.脱氧核糖核酸
- C.氨基酸
- D.核苷酸

429. 血压是重要的生命体征，在测量中我们获得高压、低压两个数值，并以此评估血压水平。

下列与血压有关的说法不正确的是（ ）。

- A.高血压是指高压和低压同时高于正常值的现象
- B.测量得到的低压是指心室舒张时产生的压力
- C.高钠低钾膳食是我国人群重要的高血压发病危险因素
- D.高血压患者在血压过高时常常伴随头晕等症状

430. 下列与病毒、细菌有关的说法正确的是（ ）。

- A.病毒是细菌的一种
- B.病毒以二分裂方式增殖
- C.病毒可以被细菌感染
- D.病毒不具有细胞结构

4.7 常识

备考建议

备考建议：难度较低，建议对真题作了解。

真题链接

431. 安全标志是表达特定安全信息的标志，由图形符号、安全色以及形状或文字构成，用于公共场所、工业企业、建筑工地和其他有必要提醒人们注意安全的场所，指导人们采取合理行为。下列安全标志中，表示“当心夹手”的是（ ）。(2022 下幼，18 题)



A



B



C



D

432. 交通标志已经成为现代生活的一部分，在保证道路交通安全、畅通方面有着重要作用，分为主标志和辅助标志两大类。下列选项中，表示“禁止驶入”的标志是（ ）。(19 下幼，25 题)



A.



B.




C.



D.

433. 安全标志是表达特定安全信息的标志，由图形符号、安全色、几何图形或文字构成，用于公共场所、工业企业、建筑工地和其他有必要提醒人们注意安全的场所，指导人们采取合

理行为。下列安全标志中，表示“禁止攀登”的是（ ）。(22 上幼，17 题)



434. 面对突发灾难，逃生方法正确与否与逃生成功率密切相关，应对不当，往往付出生命代价。在高层楼里遇到火灾时，下列做法中不正确的是（ ）。(17 下小，17 题)

- A.湿毛巾封死门缝等待救援
- B.快速进入电梯下行逃生
- C.弯腰低头顺楼梯往下奔跑
- D.用湿毛巾捂住口鼻呼吸

435. 下列关于医学知识的说法，不正确的是（ ）。(15 上幼，18 题)

- A.砒霜在中医里是可以入药的
- B.放疗要使用放射线进行照射
- C.肝脏的功能之一是分解排除血液中的毒素
- D.针灸中的“灸”是指用针扎刺人体的穴位



考点练习

436. 多数汽车的前窗都是倾斜的，最主要是为了（ ）。

- A.避免因反光而影响驾驶员视线
- B.减少空气阻力
- C.结构合理，视野开阔，承受冲击力强
- D.便于雨水流走

437. 许多人喜欢晨练，但从环境角度来看，城市早晨的空气并不新鲜，原因是（ ）。

- A.早晨空气中有时有逆温层，不利于污染物的扩散
- B.早晨空气中含有大量的二氧化碳
- C.早晨公路上汽车太多，污染严重

D.早晨人们刚刚起床，不适宜在室外锻炼

438. 下列关于地震自救表述不正确的是（ ）。

A.为防止次生灾害的发生，首先要切断电源、气源

B.应疏散到屋外平地、小胡同、陡山坡及河岸边

C.在家中可选择床下、桌子底下就地避险

D.在单元楼内，可选择开间小的卫生间、厨房、储藏室及墙角躲避

439. 2022 年北京冬奥会会徽为（ ）。

A.冬梦

B.飞跃

C.中国印

D.天地人

440. 在车道减少的路段、路口，或者在没有交通信号灯、交通标志、交通标线或者交通警察指挥的交叉路口遇到停车排队等候或者缓慢行驶时，机动车应当（ ）。

A.借道超车

B.占用对面车道

C.穿插等候的车辆

D.依次交替通行

441. 奥运五环旗中的黄色环代表（ ）。

A.美洲

B.欧洲

C.非洲

D.亚洲

442. 饮酒后驾驶机动车的，一次记（ ）分。

A.2

B.3

C.6

D.12

443. 驾驶机动车在高速公路上行驶，遇有雾、雨、雪、沙尘、冰雹等低能见度气象条件时，（ ），应当从最近的出口尽快驶离高速公路。

A.能见度小于 50 米时

B.能见度小于 100 米时

C.能见度小于 200 米时

D.能见度小于 500 米时

444. 驾驶机动车上道路行驶，以下选项中哪种情形会被扣留车辆？（ ）

A.逆向行驶

B.未悬挂机动车号牌

C.未按规定使用安全带

D.未安装防撞装置

445. 世界节能和利用新能源、可再生能源第一大国是（ ）。

A.中国

B.美国

C.日本

D.德国

446. 世界环境日是每年的（ ）。

A.5 月 6 日

B.6 月 5 日

C.6 月 6 日

D.7 月 5 日

447. 2005 年 4 月 25 日，经国务院批准，将每年的（ ）确立为中国“航海日”，作为国家的重要节日固定下来。同时也作为“世界海事日”在中国的实施日期。

A.7 月 11 日

B.6 月 11 日

C.7 月 18 日

D.6 月 18 日

448. 中国旅游日是（ ）。

A.6 月 21 日

B.5 月 19 日

C.8 月 21 日

D.6 月 19 日

449. 下列不属于八大菜系的是（ ）。

A.山东菜系

B.四川菜系

C.赣菜系

D.湘菜系

450. 中国十大名茶中采用茶果间作种植方式的是（ ）。

A.大红袍

B.龙井

C.碧螺春

D.六安瓜片

451. 我国首座获评世界“媒体艺术之都”称号的城市是（ ）。

A.北京

B.杭州

C.长沙

D.成都

452. （ ）是中国四大名面之一，也是武汉人过早（武汉人将吃早餐叫做“过早”）的首选小吃。

A.刀削面

B.热干面

C.凉面

D.担担面

453. 面粉生产车间严禁吸烟的主要原因是（ ）。

A.防止爆炸

B.防止火灾

C.保护环境

D.保护工人免受尼古丁危害

454. 第五套人民币 20 元背面印的是桂林漓江山水风光中的著名景点（ ）。

A.九马画山

B.黄布倒影

C.骆驼过江

D.下龙风光

455. 电动自行车在（ ）充电才安全。

- A.集中充电装置点
- B.走道
- C.楼梯间
- D.家里

456. 当打开房门闻到燃气气味时，首先应迅速（ ），以防止引起火灾。

- A.打开燃气灶具查找漏气部位
- B.打开门窗通风
- C.拨打 119 向消防队报警
- D.寻找灭火器

457. 烟头中心温度可达（ ），它超过了棉、麻、毛织物、纸张、家具等可燃物的燃点。若乱扔烟头接触到这些可燃物，容易引发火灾。

- A.100-200℃
- B.200-300℃
- C.700-800℃
- D.800-900℃

458. 发生火灾可以乘坐普通电梯逃生吗？（ ）

- A.不可以
- B.可以
- C.楼层高可以
- D.楼层低可以

459. 乘坐公共交通工具时，一旦发生火灾，下列逃生表述正确的是（ ）。

- A.不要慌张，按顺序慢慢走
- B.寻找最近的门窗等出口逃生，迅速离开车厢并远离起火车辆
- C.所有人都从车门逃生
- D.原地等待救援

460. 下列关于火灾报警的四种方法，错误的一项是（ ）。

- A.向 119 报警
- B.向本单位专职消防队报警，等扑救不了时再向 119 报警
- C.向本单位消防控制室报警，召集人员迅速处置初起火灾
- D.向受火灾威胁的人员发出警报，要他们迅速做好疏散准备尽快疏散

461. 地震发生时，身处高楼，下列选项中正确的自救防护措施是（ ）。

- A.立刻向外跑，乘电梯下楼
- B.蹲到外墙窗户旁躲避，找机会跳楼逃生
- C.把靠垫举在头顶，蹲到坚固的桌子下面，护好头部
- D.躲到吊柜下方

462. 油锅过热容易着火，当油锅起火时，下列应对措施不正确的是（ ）。

A.用浸湿后拧干的大毛巾、抹布，盖住油锅和灶台

B.以平移的方式，盖上锅盖

C.关上抽油烟机、灶具开关

D.立刻大量浇水

463. 当遇到火灾时，应迅速向（ ）逃离。

A.着火的相反方向

B.人员多的方向

C.安全出口的方向

D.着火方向

464. 发现火灾，应拨打哪个电话报警？（ ）

A.96119

B.96110

C.119

D.110

465. 使用灭火器进行灭火的最佳位置是（ ）。

A.下风位置

B.上风或侧风位置

C.离起火点 10 米以上位置

D.离起火点 10 米以内位置

466. 水上遇险求救电话号是（ ）。

A.12395

B.12935

C.13925

D.110

467. 发生煤气中毒后，应首先（ ）。

A.给病人喝水

B.给病人保温

C.将病人移到通风处

D.拨打 120 送医院治疗

468. 下列选项中，存在安全隐患，不利于保持消防安全通道畅通的是（ ）。

A.家中阳台、窗户安装的防盗护栏留有安全逃生门

B.定期清除楼道、楼梯间堆积的杂物

C.高层建筑设置避难层

D.将私家车停在消防车道上

469. “除四害，讲卫生”是我国爱国卫生运动的重点工作，其中，“四害”指的是（ ）

四种能够传播各类传染性疾病的卫生有害生物。

A.蚊虫-苍蝇-麻雀-蟑螂

B.蚊虫-苍蝇-蟑螂-麻雀

C.蚊虫-苍蝇-老鼠-蟑螂

D.蚊虫-苍蝇-老鼠-麻雀

470. 下列哪个血压值属于高血压（ ）。

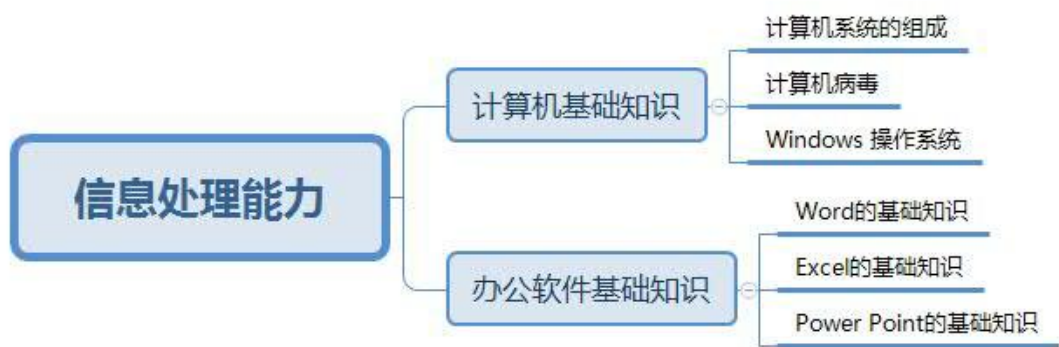
A.120/80 mmHg

B.130/80 mmHg

C.145/90 mmHg

D.85/60 mmHg

五、 信息处理



试卷位置：试卷的 26-27 题，2 道单选，共 4 分。

备考建议：考信息处理（Word、Excel 和 PPT 基础知识），以真题为主。

真题链接

471. 下表为某校的学生成绩，如使用 Excel 进行统计，与其他学校比较某科目平均分、方差及高分段人数。下列选项中，不需要的公式是（ ）。(24 上中，26 题)

序号	学号	姓名	班级	成绩	学校
001	2021220107	张丽	一班	99	胜利中学
002	2021220317	智梦娟	三班	98	胜利中学
003	2021220112	孔森	一班	97	胜利中学
004	2021220431	鲍玉慧	四班	97	胜利中学
005	2021220204	冶慧	二班	97	胜利中学
006	2021220412	李静	四班	96	胜利中学
007	2021220309	马洁	三班	96	胜利中学
008	2021220110	马红梅	一班	95	胜利中学
009	2021220212	丁娜	二班	95	胜利中学

A.=COUNTIFS()

B.=SUM()

C.=AVERAGE()

D.=VAR()

472. 在 Windows 操作系统下, 如果删除了桌面上某个应用程序的快捷方式图标, 则该应用程序的状态是 ()。(24 上小, 26 题)

A.已被删除

B.未被删除

C.不能使用

D.功能受限

473. 在 PowerPoint 幻灯片浏览视图下, 按住 Ctrl 键并拖动某张幻灯片, 可实现的功能是 ()。(24 上小, 27 题)

A.移动幻灯片

B.删除幻灯片

C.复制幻灯片

D.选定幻灯片

474. 在 PowerPoint 中, 能够退出幻灯片播放状态的快捷键或者快捷键组合是 ()。(24 上幼, 27 题)

A.Esc

B.End

C.Ctrl+V

D.Ctrl+C

475. 在 Excel 中, 如果 B2 单元格的内容为数值 15, B3 单元格的内容为数值 10 (如下图), 则 B4 单元格中公式 “=B\$2+B3*2” 的值为 ()。(2023 下小, 26 题)

	A	B
1		
2		15
3		10
4		

A.5

B.25

C.35

D.40



考点练习

476. 下列关于 Word 文档打印的描述, 正确的是 ()。

A.每次打印操作必须打印整个文档内容

B.对于一个多页文档, 每次打印操作只能按页码顺序进行

C.打印操作只能打印文档内容, 不能打印文档属性信息

D.打印操作的最小单位是页, 不是段落

477. 下列各操作中，不可删除幻灯片的是（ ）。

- A.在幻灯片浏览视图中选定幻灯片，再按 Del 键
- B.在幻灯片视图中选择幻灯片，再按[剪切]按钮
- C.在幻灯片视图中选择幻灯片，再单击[编辑]菜单中的[删除幻灯片]命令
- D.在幻灯片大纲视图中选中幻灯片，再按[剪切]按钮

478. 在 Word 2007 的编辑状态中，使插入点快速移动到文档尾的操作是（ ）。

- A.Pg Up
- B.Alt+End
- C.Ctrl+End
- D.Pg Dn

479. 在 Excel 2007 中，关于数据表及为其建立的嵌入式图表的说法，正确的是（ ）。

- A.删除工作表中的数据，图表中的数据系列不会删除
- B.增加工作表中的数据，图表中的数据系列不会增加
- C.修改工作表中的数据，图表中的数据系列不会修改
- D.以上三项均不正确

480. 在 Word 2007 编辑状态下，对于选定的文字（ ）。

- A.可以设置颜色，不可以设置动态效果
- B.可以设置动态效果，不可以设置颜色
- C.既可以设置颜色，也可以设置动态效果
- D.不可以设置颜色，也不可以设置动态效果

481.Power Point 2007 中，有关选定幻灯片的说法中错误的是（ ）。

- A.在幻灯片浏览视图中单击幻灯片，即可选定
- B.如果要选定多张不连续幻灯片，在幻灯片浏览视图下按 Ctrl 键并单击各张幻灯片
- C.如果要选定多张连续幻灯片，在幻灯片浏览视图下，按下 Shift 键并单击首、尾要选定的幻灯片
- D.在普通视图下，也可以选定多个幻灯片

482. 关于计算机，表述错误的是（ ）。

- A.世界上第一台电子计算机由美国冯·诺依曼发明
- B.PC 机是指个人电脑
- C.CPU 是电子计算机重要的硬件系统
- D.现代计算机主要使用晶体

483. Word 菜单中常会出现一些暗灰色的选项，这表示（ ）。

- A.系统运行故障
- B.Word 本身缺陷
- C.文档带病毒
- D.这些项在当前无效

484. 在 PowerPoint 中，（ ）可以用来改变某一幻灯片的布局。

- A.背景
- B.幻灯片配色方案
- C.幻灯片版式
- D.字体

485. Excel 中，为表格添加边框的正确操作是（ ）。

- A.单击“格式”菜单中的“单元格”
- B.单击“格式”菜单中的“边框和底纹”
- C.单击“插入”菜单中“边框”
- D.单击“插入”菜单中“单元格”

六、 逻辑思维



备考建议

试卷位置：试卷的 28-29 题，2 道单选，共 4 分。

备考建议：考逻辑思维（数字、图形推理等），建议通过真题练习技巧。

真题链接

486. 下列选项与“湖泊-高原湖泊-青海湖”的逻辑关系一致的（ ）。(24 上中，28 题)

A. 书-历史书-《汉书》

B. 蔬菜-番茄-黄瓜

C. 教师-中学教师-校长

D. 球-地球-乒乓球

487. 下列选项中，填入数列“12、30、84、246、（ ）、2190”空缺处的数字，正确的是（ ）。

(24 上中，29 题)

A. 730

B. 732

C. 736

D. 738

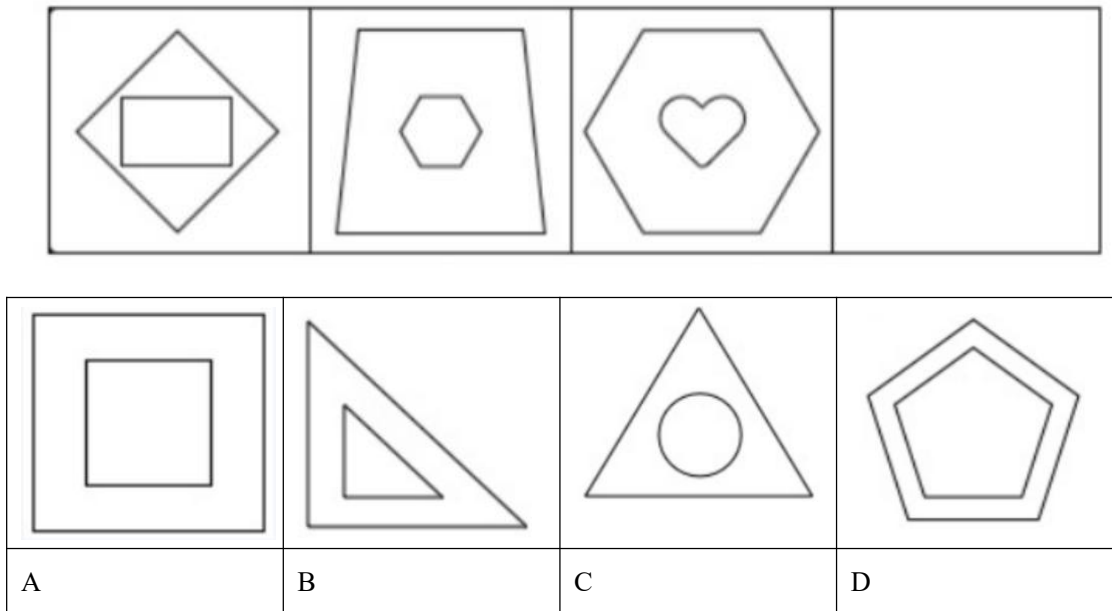
488. 下列选项中，与“学科——数学”的逻辑关系一致的是（ ）。(24 上小，28 题)

- A. “植物”和“松树”
B. “大学”和“中学”
C. “动物”和“化石”
D. “暴风”和“台风”

489. 找规律填数字是一个有趣的活动，特别锻炼观察和思考能力。下列选项中，填入数列“4、9、17、35、（ ）、139”空缺处的数字，正确的是（ ）。(24 上小，28 题)

- A.56
B.69
C.92
D.111

490. 按照给出图形的规律特点，下列选项中，填入空白处最恰当的一项是（ ）。(24 上幼，29 题)



A+ 考点练习

491. 下列选项中，对概念所做的概括，不正确的一项是（ ）。

- A.将老鼠概括为动物
B.将北京概括为首都
C.将桌面概括为桌子
D.将苹果 5S 手机概括为手机

492. 有甲、乙、丙三个学生，一个出生在北京，一个出生在上海，一个出生在武汉；他们中一个学国际金融专业，一个学工商管理专业，一个学外语。其中：

①甲不是学国际金融的，乙不是学外语的；

②学国际金融的不出生在上海；

③学外语的出生在北京；

④乙不出生在武汉。

请根据上述条件，判断甲的专业是（ ）。

A.国际金融

B.工商管理

C.外语

D.3 种专业都可能

493. 找规律填空 2, 21, (), 91, 147

A.40

B.49

C.45

D.60

494. 芝麻——香油（ ）。

A.面粉——面包

B.纸张——本

C.干冰——二氧化碳

D.手指——手

495. 有一份选择题试卷共 6 个小题，其得分标准是：一道小题答对得 8 分，答错得 0 分，不答得 2 分，某位同学得了 20 分，则他（ ）。

A.至多答对一道题

B.至少有三个小题没答

C.至少答对三个小题

D.答错两个小题

496. 只要不起雾，飞机就能起飞。以下哪项正确地表达了上述断定？（ ）

(1) 如果飞机按时起飞，则一定没有起雾

(2) 如果飞机不按时起飞，则一定起雾

(3) 除非起雾，否则飞机按时起飞

A.只有(1)

B.只有(2)

C.只有(3)

D.只有(2)和(3)

497. 妈妈说：或者买奥特曼，或者买游戏机。小米听了，哭着说：我不同意。请问小米的意见是？（ ）

A.买奥特曼，但不买游戏机

B.既买奥特曼，也买游戏机

C.买游戏机，但不买奥特曼

D.既不买奥特曼，也不买游戏机

498. 5, 5, 15, 75 ()。

A.125

B.350

C.455

D.525

499. “并非一切糕点都是甜味的。”这句话的意思是（ ）。

A.至少有一种糕点不是甜的

B.没有一种糕点是甜的

C.至少有一种糕点是甜的

D.没有一种糕点不甜

500. 按照给出图形的逻辑特点，下列选项中，填入空格处最恰当的是（ ）。

